




Муниципальное бюджетное общеобразовательное учреждение
Вологодского муниципального округа
«Васильевская средняя школа»

<p>«Рассмотрено» Педагогический совет МБОУ ВМО «Васильевская средняя школа» от 29 августа 2023 г. №1</p>	<p>«Согласовано» Заместитель директора по УМР МБОУ ВМО «Васильевская средняя школа»  Л.Ю. Проничева</p>	<p>«Утверждаю» И.о. директора МБОУ ВМО «Васильевская средняя школа»  Е.В. Макарова</p> 
---	---	--

РАБОЧАЯ ПРОГРАММА

учебного предмета «Вероятность и статистика.

Базовый уровень»

для обучающихся 10-11 классов

Составитель: Васеничева С. В. (ID 431099),

учитель математики, физики

п.Васильевское 2023

ПОЯСНИТЕЛЬНАЯ ЗАПИСКА

Рабочая программа учебного курса «Вероятность и статистика» базового уровня для обучающихся 10 –11 классов разработана на основе Федерального государственного образовательного стандарта среднего общего образования, с учётом современных мировых требований, предъявляемых к математическому образованию, и традиций российского образования. Реализация программы обеспечивает овладение ключевыми компетенциями, составляющими основу для саморазвития и непрерывного образования, целостность общекультурного, личностного и познавательного развития личности обучающихся.

ЦЕЛИ ИЗУЧЕНИЯ УЧЕБНОГО КУРСА

Учебный курс «Вероятность и статистика» базового уровня является продолжением и развитием одноимённого учебного курса базового уровня основной школы. Курс предназначен для формирования у обучающихся статистической культуры и понимания роли теории вероятностей как математического инструмента для изучения случайных событий, величин и процессов. При изучении курса обогащаются представления учащихся о методах исследования изменчивого мира, развивается понимание значимости и общности математических методов познания как неотъемлемой части современного естественно-научного мировоззрения.

Содержание курса направлено на закрепление знаний, полученных при изучении курса основной школы и на развитие представлений о случайных величинах и взаимосвязях между ними на важных примерах, сюжеты которых почерпнуты из окружающего мира.

В соответствии с указанными целями в структуре учебного курса «Вероятность и статистика» средней школы на базовом уровне выделены следующие основные содержательные линии: «Случайные события и вероятности», «Случайные величины и закон больших чисел».

Важную часть курса занимает изучение геометрического и биномиального распределений и знакомство с их непрерывными аналогами — показательным и нормальным распределениями.

Содержание линии «Случайные события и вероятности» служит основой для формирования представлений о распределении вероятностей между значениями случайных величин, а также эта линия необходима как база для изучения закона больших чисел – фундаментального закона, действующего в природе и обществе и имеющего математическую

формализацию. Сам закон больших чисел предлагается в ознакомительной форме с минимальным использованием математического формализма.

Темы, связанные с непрерывными случайными величинами, акцентируют внимание школьников на описании и изучении случайных явлений с помощью непрерывных функций. Основное внимание уделяется показательному и нормальному распределениям, при этом предполагается ознакомительное изучение материала без доказательств применяемых фактов.

МЕСТО КУРСА В УЧЕБНОМ ПЛАНЕ

На изучение курса «Вероятность и статистика» на базовом уровне отводится 1 час в неделю в течение каждого года обучения, всего 68 учебных часов.

СОДЕРЖАНИЕ УЧЕБНОГО КУРСА

10 КЛАСС

Представление данных с помощью таблиц и диаграмм. Среднее арифметическое, медиана, наибольшее и наименьшее значения, размах, дисперсия и стандартное отклонение числовых наборов.

Случайные эксперименты (опыты) и случайные события. Элементарные события (исходы). Вероятность случайного события. Близость частоты и вероятности событий. Случайные опыты с равновозможными элементарными событиями. Вероятности событий в опытах с равновозможными элементарными событиями.

Операции над событиями: пересечение, объединение, противоположные события. Диаграммы Эйлера. Формула сложения вероятностей.

Условная вероятность. Умножение вероятностей. Дерево случайного эксперимента. Формула полной вероятности. Независимые события.

Комбинаторное правило умножения. Перестановки и факториал. Число сочетаний. Треугольник Паскаля. Формула бинома Ньютона.

Бинарный случайный опыт (испытание), успех и неудача. Независимые испытания. Серия независимых испытаний до первого успеха. Серия независимых испытаний Бернулли.

Случайная величина. Распределение вероятностей. Диаграмма распределения. Примеры распределений, в том числе, геометрическое и биномиальное.

11 КЛАСС

Числовые характеристики случайных величин: математическое ожидание, дисперсия и стандартное отклонение. Примеры применения математического ожидания, в том числе в задачах из повседневной жизни. Математическое ожидание бинарной случайной величины. Математическое ожидание суммы случайных величин. Математическое ожидание и дисперсия геометрического и биномиального распределений.

Закон больших чисел и его роль в науке, природе и обществе. Выборочный метод исследований.

Примеры непрерывных случайных величин. Понятие о плотности распределения. Задачи, приводящие к нормальному распределению. Понятие о нормальном распределении.

ПЛАНИРУЕМЫЕ РЕЗУЛЬТАТЫ

ЛИЧНОСТНЫЕ РЕЗУЛЬТАТЫ

Личностные результаты освоения программы учебного предмета «Математика» характеризуются:

Гражданское воспитание:

сформированностью гражданской позиции обучающегося как активного и ответственного члена российского общества, представлением о математических основах функционирования различных структур, явлений, процедур гражданского общества (выборы, опросы и пр.), умением взаимодействовать с социальными институтами в соответствии с их функциями и назначением.

Патриотическое воспитание:

сформированностью российской гражданской идентичности, уважения к прошлому и настоящему российской математики, ценностным отношением к достижениям российских математиков и российской математической школы, к использованию этих достижений в других науках, технологиях, сферах экономики.

Духовно-нравственного воспитания:

осознанием духовных ценностей российского народа; сформированностью нравственного сознания, этического поведения, связанного с практическим применением достижений науки и деятельностью учёного; осознанием личного вклада в построение устойчивого будущего.

Эстетическое воспитание:

эстетическим отношением к миру, включая эстетику математических закономерностей, объектов, задач, решений, рассуждений; восприимчивостью к математическим аспектам различных видов искусства.

Физическое воспитание:

сформированностью умения применять математические знания в интересах здорового и безопасного образа жизни, ответственного отношения к своему здоровью (здоровое питание, сбалансированный режим занятий и отдыха, регулярная физическая активность); физического совершенствования, при занятиях спортивно-оздоровительной деятельностью.

Трудовое воспитание:

готовностью к труду, осознанием ценности трудолюбия; интересом к различным сферам профессиональной деятельности, связанным с математикой и её приложениями, умением совершать осознанный выбор будущей профессии и реализовывать собственные жизненные планы;

готовностью и способностью к математическому образованию и самообразованию на протяжении всей жизни; готовностью к активному участию в решении практических задач математической направленности.

Экологическое воспитание:

сформированностью экологической культуры, пониманием влияния социально-экономических процессов на состояние природной и социальной среды, осознанием глобального характера экологических проблем; ориентацией на применение математических знаний для решения задач в области окружающей среды, планирования поступков и оценки их возможных последствий для окружающей среды.

Ценности научного познания:

сформированностью мировоззрения, соответствующего современному уровню развития науки и общественной практики, пониманием математической науки как сферы человеческой деятельности, этапов её развития и значимости для развития цивилизации; овладением языком математики и математической культурой как средством познания мира; готовностью осуществлять проектную и исследовательскую деятельность индивидуально и в группе.

МЕТАПРЕДМЕТНЫЕ РЕЗУЛЬТАТЫ

Метапредметные результаты освоения программы учебного предмета «Математика» характеризуются овладением универсальными *познавательными действиями, универсальными коммуникативными действиями, универсальными регулятивными действиями.*

1) *Универсальные познавательные действия, обеспечивают формирование базовых когнитивных процессов обучающихся (освоение методов познания окружающего мира; применение логических, исследовательских операций, умений работать с информацией).*

Базовые логические действия:

- выявлять и характеризовать существенные признаки математических объектов, понятий, отношений между понятиями; формулировать определения понятий; устанавливать существенный признак классификации, основания для обобщения и сравнения, критерии проводимого анализа;
- воспринимать, формулировать и преобразовывать суждения: утвердительные и отрицательные, единичные, частные и общие; условные;
- выявлять математические закономерности, взаимосвязи и противоречия в фактах, данных, наблюдениях и утверждениях;

предлагать критерии для выявления закономерностей и противоречий;

- делать выводы с использованием законов логики, дедуктивных и индуктивных умозаключений, умозаключений по аналогии;
- проводить самостоятельно доказательства математических утверждений (прямые и от противного), выстраивать аргументацию, приводить примеры и контрпримеры; обосновывать собственные суждения и выводы;
- выбрать способ решения учебной задачи (сравнивать несколько вариантов решения, выбирать наиболее подходящий с учётом самостоятельно выделенных критериев).

Базовые исследовательские действия:

- использовать вопросы как исследовательский инструмент познания; формулировать вопросы, фиксирующие противоречие, проблему, устанавливать искомое и данное, формировать гипотезу, аргументировать свою позицию, мнение;
- проводить самостоятельно спланированный эксперимент, исследование по установлению особенностей математического объекта, явления, процесса, выявлению зависимостей между объектами, явлениями, процессами;
- самостоятельно формулировать обобщения и выводы по результатам проведённого наблюдения, исследования, оценивать достоверность полученных результатов, выводов и обобщений;
- прогнозировать возможное развитие процесса, а также выдвигать предположения о его развитии в новых условиях.

Работа с информацией:

- выявлять дефициты информации, данных, необходимых для ответа на вопрос и для решения задачи;
- выбирать информацию из источников различных типов, анализировать, систематизировать и интерпретировать информацию различных видов и форм представления;
- структурировать информацию, представлять её в различных формах, иллюстрировать графически;
- оценивать надёжность информации по самостоятельно сформулированным критериям.

2) *Универсальные коммуникативные действия, обеспечивают сформированность социальных навыков обучающихся.*

Общение:

- воспринимать и формулировать суждения в соответствии с условиями и целями общения; ясно, точно, грамотно выражать свою точку зрения в устных и письменных текстах, давать пояснения по ходу решения задачи, комментировать полученный результат;
- в ходе обсуждения задавать вопросы по существу обсуждаемой темы, проблемы, решаемой задачи, высказывать идеи, нацеленные на поиск решения; сопоставлять свои суждения с суждениями других участников диалога, обнаруживать различие и сходство позиций; в корректной форме формулировать разногласия, свои возражения;
- представлять результаты решения задачи, эксперимента, исследования, проекта; самостоятельно выбирать формат выступления с учётом задач презентации и особенностей аудитории.

Сотрудничество:

- понимать и использовать преимущества командной и индивидуальной работы при решении учебных задач; принимать цель совместной деятельности, планировать организацию совместной работы, распределять виды работ, договариваться, обсуждать процесс и результат работы; обобщать мнения нескольких людей;
- участвовать в групповых формах работы (обсуждения, обмен мнениями, «мозговые штурмы» и иные); выполнять свою часть работы и координировать свои действия с другими членами команды; оценивать качество своего вклада в общий продукт по критериям, сформулированным участниками взаимодействия.

3) *Универсальные регулятивные действия, обеспечивают формирование смысловых установок и жизненных навыков личности.*

Самоорганизация:

составлять план, алгоритм решения задачи, выбирать способ решения с учётом имеющихся ресурсов и собственных возможностей, аргументировать и корректировать варианты решений с учётом новой информации.

Самоконтроль:

- владеть навыками познавательной рефлексии как осознания совершаемых действий и мыслительных процессов, их результатов; владеть способами самопроверки, самоконтроля процесса и результата решения математической задачи;
- предвидеть трудности, которые могут возникнуть при решении задачи, вносить коррективы в деятельность на основе новых обстоятельств, данных, найденных ошибок, выявленных трудностей;

- оценивать соответствие результата цели и условиям, объяснять причины достижения или недостижения результатов деятельности, находить ошибку, давать оценку приобретённому опыту.

ПРЕДМЕТНЫЕ РЕЗУЛЬТАТЫ

10 КЛАСС

Читать и строить таблицы и диаграммы.

Оперировать понятиями: среднее арифметическое, медиана, наибольшее, наименьшее значение, размах массива числовых данных.

Оперировать понятиями: случайный эксперимент (опыт) и случайное событие, элементарное событие (элементарный исход) случайного опыта; находить вероятности в опытах с равновозможными случайными событиями, находить и сравнивать вероятности событий в изученных случайных экспериментах.

Находить и формулировать события: пересечение и объединение данных событий, событие, противоположное данному событию; пользоваться диаграммами Эйлера и формулой сложения вероятностей при решении задач.

Оперировать понятиями: условная вероятность, независимые события; находить вероятности с помощью правила умножения, с помощью дерева случайного опыта.

Применять комбинаторное правило умножения при решении задач.

Оперировать понятиями: испытание, независимые испытания, серия испытаний, успех и неудача; находить вероятности событий в серии независимых испытаний до первого успеха; находить вероятности событий в серии испытаний Бернулли.

Оперировать понятиями: случайная величина, распределение вероятностей, диаграмма распределения.

11 КЛАСС

Сравнивать вероятности значений случайной величины по распределению или с помощью диаграмм.

Оперировать понятием математического ожидания; приводить примеры, как применяется математическое ожидание случайной величины находить математическое ожидание по данному распределению.

Иметь представление о законе больших чисел.

Иметь представление о нормальном распределении.

ТЕМАТИЧЕСКОЕ ПЛАНИРОВАНИЕ

10 КЛАСС

№ п/п	Наименование разделов и тем программы	Воспитательный компонент	Количество часов			Электронные (цифровые) образовательные ресурсы
			Всего	Контрольные работы	Практические работы	
1	Представление данных и описательная статистика	Гражданское воспитание: сформированностью гражданской позиции обучающегося как активного и ответственного члена российского общества, представлением о математических основах функционирования различных структур, явлений, процедур гражданского общества (выборы, опросы и пр.), умением взаимодействовать с социальными институтами в соответствии с их функциями и назначением.	4			https://resh.edu.ru/
2	Случайные опыты и случайные события, опыты с равновозможными элементарными исходами	Патриотическое воспитание: сформированностью российской гражданской идентичности, уважения к прошлому и настоящему российской математики, ценностным отношением к	3		1	https://resh.edu.ru/

		достижениям российских математиков и российской математической школы, к использованию этих достижений в других науках, технологиях, сферах экономики.				
3	Операции над событиями, сложение вероятностей	<p>Духовно-нравственного воспитания:</p> <p>осознанием духовных ценностей русского народа; сформированностью нравственного сознания, этического поведения, связанного с практическим применением достижений науки и деятельностью учёного; осознанием личного вклада в построение устойчивого будущего.</p>	3			https://resh.edu.ru/
4	Условная вероятность, дерево случайного опыта, формула полной вероятности и независимость событий	<p>Эстетическое воспитание:</p> <p>эстетическим отношением к миру, включая эстетику математических закономерностей, объектов, задач, решений, рассуждений; восприимчивостью к математическим аспектам различных видов искусства.</p>	6			https://resh.edu.ru/
5	Элементы комбинаторики	<p>Физическое воспитание:</p> <p>сформированностью умения применять математические знания в интересах здорового и безопасного</p>	4			https://resh.edu.ru/

		образа жизни, ответственного отношения к своему здоровью (здоровое питание, сбалансированный режим занятий и отдыха, регулярная физическая активность); физического совершенствования, при занятиях спортивно-оздоровительной деятельностью.				
6	Серии последовательных испытаний	Трудовое воспитание: готовностью к труду, осознанием ценности трудолюбия; интересом к различным сферам профессиональной деятельности, связанным с математикой и её приложениями, умением совершать осознанный выбор будущей профессии и реализовывать собственные жизненные планы; готовностью и способностью к математическому образованию и самообразованию на протяжении всей жизни; готовностью к активному участию в решении практических задач математической направленности	3		1	https://resh.edu.ru/
7	Случайные величины и распределения	Экологическое воспитание: сформированностью экологической культуры, пониманием влияния социально-экономических процессов на состояние природной и социальной среды, осознанием	6			https://resh.edu.ru/

		глобального характера экологических проблем; ориентацией на применение математических знаний для решения задач в области окружающей среды, планирования поступков и оценки их возможных последствий для окружающей среды.				
8	Обобщение и систематизация знаний	Ценности научного познания: сформированностью мировоззрения, соответствующего современному уровню развития науки и общественной практики, пониманием математической науки как сферы человеческой деятельности, этапов её развития и значимости для развития цивилизации; овладением языком математики и математической культурой как средством познания мира; готовностью осуществлять проектную и исследовательскую деятельность индивидуально и в группе.	5	2		https://resh.edu.ru/
ОБЩЕЕ КОЛИЧЕСТВО ЧАСОВ ПО ПРОГРАММЕ			34	2	2	

11 КЛАСС

№ п/п	Наименование разделов и тем программы	Воспитательный компонент	Количество часов			Электронные (цифровые) образовательные ресурсы
			Всего	Контрольные работы	Практические работы	
1	Математическое ожидание случайной величины	<p>Гражданское воспитание: сформированностью гражданской позиции обучающегося как активного и ответственного члена российского общества, представлением о математических основах функционирования различных структур, явлений, процедур гражданского общества (выборы, опросы и пр.), умением взаимодействовать с социальными институтами в соответствии с их функциями и назначением.</p> <p>Экологическое воспитание: сформированностью экологической культуры, пониманием влияния социально-экономических процессов на состояние природной и социальной среды, осознанием глобального характера экологических проблем; ориентацией на применение</p>	4			https://resh.edu.ru/

		математических знаний для решения задач в области окружающей среды, планирования поступков и оценки их возможных последствий для окружающей среды.				
2	Дисперсия и стандартное отклонение случайной величины	<p>Патриотическое воспитание: сформированностью российской гражданской идентичности, уважения к прошлому и настоящему российской математики, ценностным отношением к достижениям российских математиков и российской математической школы, к использованию этих достижений в других науках, технологиях, сферах экономики.</p> <p>Ценности научного познания: сформированностью мировоззрения, соответствующего современному уровню развития науки и общественной практики, пониманием математической науки как сферы человеческой деятельности, этапов её развития и значимости для развития цивилизации; овладением языком математики и математической культурой как средством познания мира; готовностью осуществлять проектную и исследовательскую деятельность индивидуально и в группе.</p>	4		1	https://resh.edu.ru/

3	Закон больших чисел	<p>Духовно-нравственного воспитания: осознанием духовных ценностей русского народа; сформированностью нравственного сознания, этического поведения, связанного с практическим применением достижений науки и деятельностью учёного; осознанием личного вклада в построение устойчивого будущего.</p>	3		1	https://resh.edu.ru/
4	Непрерывные случайные величины (распределения)	<p>Эстетическое воспитание: эстетическим отношением к миру, включая эстетику математических закономерностей, объектов, задач, решений, рассуждений; восприимчивостью к математическим аспектам различных видов искусства.</p>	2			https://resh.edu.ru/
5	Нормальное распределения	<p>Физическое воспитание: сформированностью умения применять математические знания в интересах здорового и безопасного образа жизни, ответственного отношения к своему здоровью (здоровое питание, сбалансированный режим занятий и отдыха, регулярная физическая активность); физического совершенствования, при занятиях спортивно-оздоровительной</p>	2		1	https://resh.edu.ru/

		деятельностью.				
6	Повторение, обобщение и систематизация знаний	<p>Трудовое воспитание: готовностью к труду, осознанием ценности трудолюбия; интересом к различным сферам профессиональной деятельности, связанным с математикой и её приложениями, умением совершать осознанный выбор будущей профессии и реализовывать собственные жизненные планы; готовностью и способностью к математическому образованию и самообразованию на протяжении всей жизни; готовностью к активному участию в решении практических задач математической направленности</p>	19	2		https://resh.edu.ru/
ОБЩЕЕ КОЛИЧЕСТВО ЧАСОВ ПО ПРОГРАММЕ				2	3	

**УЧЕБНО-МЕТОДИЧЕСКОЕ ОБЕСПЕЧЕНИЕ
ОБРАЗОВАТЕЛЬНОГО ПРОЦЕССА
ОБЯЗАТЕЛЬНЫЕ УЧЕБНЫЕ МАТЕРИАЛЫ ДЛЯ УЧЕНИКА**

<https://resh.edu.ru/>

<https://sun9-79.userapi.com/impj/tN6wLPyejZDbIACgHtMcaFtVWe6nYJalRc2lw/8LctfAnXqvl.jpg?size=537x240&quality=96&sign=7c4354869daace294f19d1f9077303df&type=share>

МЕТОДИЧЕСКИЕ МАТЕРИАЛЫ ДЛЯ УЧИТЕЛЯ

<https://resh.edu.ru/>

<https://sun9-79.userapi.com/impj/tN6wLPyejZDbIACgHtMcaFtVWe6nYJalRc2lw/8LctfAnXqvl.jpg?size=537x240&quality=96&sign=7c4354869daace294f19d1f9077303df&type=share>

**ЦИФРОВЫЕ ОБРАЗОВАТЕЛЬНЫЕ РЕСУРСЫ И РЕСУРСЫ СЕТИ
ИНТЕРНЕТ**

<https://resh.edu.ru/>

<https://sun9-79.userapi.com/impj/tN6wLPyejZDbIACgHtMcaFtVWe6nYJalRc2lw/8LctfAnXqvl.jpg?size=537x240&quality=96&sign=7c4354869daace294f19d1f9077303df&type=share>

Итоговая контрольная работа по курсу «Вероятность и статистика» 10класс

1. Максим выбирает трехзначное число. Найдите вероятность того, что оно делится на 11.
2. У бабушки 10 чашек: 6 с красными цветами, остальные – с синими. Бабушка наливает чай в случайно выбранную чашку. Найдите вероятность того, что это будет чашка с синими цветами.
3. Вычислите:
1) $\frac{3P_{12} - P_{11}}{7P_{10}}$; 2) $\frac{A_5^2}{C_6^3}$.
4. В школе семь учителей математики и шесть учителей информатики. Нужно создать экзаменационную комиссию из двух учителей информатики и четырёх учителей математики. Сколькими способами это можно сделать?
5. Определите вероятность того, что при бросании кубика выпало нечетное число очков?
6. Одновременно бросают три симметричные монеты. Какова вероятность того, что выпадут два орла и одна решка?
7. В соревнованиях по толканию ядра участвуют 5 спортсменов из Аргентины, 10 спортсменов из Бразилии, 6 спортсменов из Парагвая и 7 – из Уругвая. Порядок, в котором выступают спортсмены, определяется жребием. Найдите вероятность того, что спортсмен, который выступает последним, окажется из Уругвая.
8. Вероятность того, что новый сканер прослужит больше года, равна 0,96. Вероятность того, что он прослужит больше двух лет, равна 0,87. Найдите вероятность того, что он прослужит меньше двух лет, но больше года.
9. Какова вероятность того, что случайно выбранное натуральное число от 25 до 39 делится на 5?
10. Вероятность того, что на тесте по истории обучающийся верно решит больше 10 задач, равна 0,61. Вероятность того, что он решит больше 9 задач, равна 0,69. Найдите вероятность того, что ученик верно решит ровно 10 задач.

ОТВЕТЫ

1.0,09

2.0,4

3. 1) 55 ; 2) 1.

4. 525

5. 0,5

6. 0,375

7. 0,25

8. 0,09

9. 0,2

10. 0,08

КРИТЕРИИ ОЦЕНИВАНИЯ:

«2» - менее 5 заданий

«3» - 5-6 заданий

«4» - 7-8 заданий

«5» - 9-10 заданий

Входной контроль по курсу «Вероятность и статистика» 11 класс

1. На экзамене 50 билетов, Коля не выучил 9 из них. Найдите вероятность того, что ему попадет выученный билет.

2. На блюде 35 пирожков: 9 с мясом, 12 с яйцом и 14 с рыбой. Катя наугад выбирает один пирожок. Найдите вероятность того, что он окажется с рыбой.

3. Вычислите:

$$1) \frac{6P_{11} - P_{10}}{13P_9}; \quad 2) \frac{C_7^4}{A_6^3}.$$

4. В библиотеке читателю предложили на выбор из новых поступлений 10 книг и 4 журнала. Сколькими способами он может выбрать из них 3 книги и 2 журнала?

5. Саша наудачу выбирает двузначное число. Найдите вероятность того, что оно оканчивается на 6.

6. Одновременно бросают три симметричные монеты. Какова вероятность того, что выпадут три орла?

7. В случайном эксперименте бросают две игральные кости. Найдите вероятность того, что в сумме выпадет 4 очка. Результат округлите до сотых.

8. Вероятность того, что новый сканер прослужит больше года, равна 0,95. Вероятность того, что он прослужит больше двух лет, равна 0,83. Найдите вероятность того, что он прослужит меньше двух лет, но больше года.

9. Какова вероятность того, что случайно выбранное натуральное число от 42 до 66 делится на 6?

10. Вероятность того, что на тесте по биологии обучающийся верно решит больше 9 задач, равна 0,64. Вероятность того, что он решит больше 8 задач, равна 0,7. Найдите вероятность того, что ученик верно решит ровно 9 задач.

ОТВЕТЫ

1. 0,82

2. 0,4

3. 1) 50 ; 2) $\frac{7}{24}$

4. 720

5. 0,1

6. 0,125

7. 0,08

8. 0,12

9. 0,2

10. 0,06

КРИТЕРИИ ОЦЕНИВАНИЯ:

«2» - менее 5 заданий

«3» - 5-6 заданий

«4» - 7-8 заданий

«5» - 9-10 заданий

Итоговая контрольная работа по курсу «Вероятность и статистика» 11класс

Вариант1

1. В группе туристов 30 человек. Их вертолётom в несколько приёмов забрасывают в труднодоступный район по 6 человек за рейс. Порядок, в котором вертолёт перевозит туристов, случаен. Найдите вероятность того, что турист П. полетит первым рейсом вертолётa.

2. Вероятность того, что на тестировании по истории учащийся Т. верно решит больше 8 задач, равна 0,76. Вероятность того, что Т. верно решит больше 7 задач, равна 0,88. Найдите вероятность того, что Т. верно решит ровно 8 задач.

3. В случайном эксперименте бросают три игральные кости. Найдите вероятность того, что в сумме выпадет 6 очков. Результат округлите до сотых.

4. На фабрике керамической посуды 10% произведённых тарелок имеют дефект. При контроле качества продукции выявляется 80% дефектных тарелок. Остальные тарелки поступают в продажу. Найдите вероятность того, что случайно выбранная при покупке тарелка не имеет дефектов. Результат округлите до сотых.

5. В магазине три продавца. Каждый из них занят обслуживанием клиента с вероятностью 0,7 независимо от других продавцов. Найдите вероятность того, что в случайный момент времени все три продавца заняты.

6. В торговом центре два одинаковых автомата продают кофе. Обслуживание автоматов происходит по вечерам после закрытия центра. Известно, что вероятность события «К вечеру в первом автомате закончится кофе» равна 0,25. Такая же вероятность события «К вечеру во втором автомате закончится кофе». Вероятность того, что кофе к вечеру закончится в обоих автоматах, равна 0,15. Найдите вероятность того, что к вечеру дня кофе останется в обоих автоматах.

Вариант 2

1. В сборнике билетов по математике всего 25 билетов, в 10 из них встречается вопрос по теме "Неравенства". Найдите вероятность того, что в случайно выбранном на экзамене билете школьнику **не достанется** вопроса по теме "Неравенства".

2. Если шахматист А. играет белыми фигурами, то он выигрывает у шахматиста Б. с вероятностью 0,5. Если А. играет черными, то А. выигрывает у Б. с вероятностью 0,3. Шахматисты А. и Б. играют две партии, причём во второй партии меняют цвет фигур. Найдите вероятность того, что А. выигрывает оба раза.

3. В случайном эксперименте симметричную монету бросают трижды. Найдите вероятность того, что выпадет хотя бы две решки.

4. Агрофирма закупает куриные яйца в двух домашних хозяйствах. 60% яиц из первого хозяйства — яйца высшей категории, а из второго хозяйства — 70% яиц высшей категории. Всего высшую категорию получает 65% яиц. Найдите вероятность того, что яйцо, купленное у этой агрофирмы, окажется из первого хозяйства.

5. Вероятность того, что новый электрический чайник прослужит больше года, равна 0,97. Вероятность того, что он прослужит больше двух лет, равна 0,89. Найдите вероятность того, что он прослужит меньше двух лет, но больше года.

6. В кармане у Пети было 4 монеты по рублю и 2 монеты по два рубля. Петя, не глядя, переложил какие-то 3 монеты в другой карман. Найдите вероятность того, что обе двухрублёвые монеты лежат в одном кармане.

Решения и ответы

Вариант 1

1. В группе туристов 30 человек. Их вертолётom в несколько приёмов забрасывают в труднодоступный район по 6 человек за рейс. Порядок, в котором вертолёт перевозит туристов, случаен. Найдите вероятность того, что турист П. полетит первым рейсом вертолётa.

Решение.

На первом рейсе 6 мест, всего мест 30. Тогда вероятность того, что турист П. полетит первым рейсом вертолётa, равна:

Ответ: 0,2.

2. Вероятность того, что на тестировании по истории учащийся Т. верно решит больше 8 задач, равна 0,76. Вероятность того, что Т. верно решит больше 7 задач, равна 0,88. Найдите вероятность того, что Т. верно решит ровно 8 задач.

Решение.

Рассмотрим события $A = \text{«учащийся решит 8 задач»}$ и $B = \text{«учащийся решит больше 8 задач»}$. Их сумма — событие $A + B = \text{«учащийся решит больше 7 задач»}$. События A и B несовместные, вероятность их суммы равна сумме вероятностей этих событий:

$$P(A + B) = P(A) + P(B).$$

Тогда, используя данные задачи, получаем: $0,88 = P(A) + 0,76$, откуда $P(A) = 0,88 - 0,76 = 0,12$.

Ответ: 0,12.

3. В случайном эксперименте бросают три игральные кости. Найдите вероятность того, что в сумме выпадет 6 очков. Результат округлите до сотых.

Решение.

Количество исходов, при которых в результате броска игральных костей выпадет 6 очков, равно 10: $1 + 1 + 4$, $1 + 4 + 1$, $4 + 1 + 1$, $1 + 2 + 3$, $1 + 3 + 2$, $3 + 1 + 2$, $3 + 2 + 1$, $2 + 1 + 3$, $2 + 3 + 1$, $2 + 2 + 2$. Каждый из кубиков может выпасть шестью вариантами, поэтому общее число исходов равно $6 \cdot 6 \cdot 6 = 216$. Следовательно, вероятность того, что в сумме выпадет 6 очков, равна

Ответ: 0,05.

4. На фабрике керамической посуды 10% произведённых тарелок имеют дефект. При контроле качества продукции выявляется 80% дефектных тарелок. Остальные тарелки поступают в продажу. Найдите вероятность того, что случайно выбранная при покупке тарелка не имеет дефектов. Результат округлите до сотых.

Решение.

Пусть завод произвел тарелок. В продажу поступят все качественные тарелки и 20% невыявленных дефектных тарелок: тарелок. Поскольку качественных из них, вероятность купить качественную тарелку равна

Ответ: 0,98.

5. В магазине три продавца. Каждый из них занят обслуживанием клиента с вероятностью 0,7 независимо от других продавцов. Найдите вероятность того, что в случайный момент времени все три продавца заняты.

Решение.

Вероятность произведения независимых событий равна произведению вероятностей этих событий. Поэтому вероятность того, что все три продавца заняты равна

Ответ: 0,343.

6. В торговом центре два одинаковых автомата продают кофе. Обслуживание автоматов происходит по вечерам после закрытия центра. Известно, что вероятность события «К вечеру в первом автомате закончится кофе» равна 0,25. Такая же вероятность события «К вечеру во втором автомате закончится кофе». Вероятность того, что кофе к вечеру закончится в обоих автоматах, равна 0,15. Найдите вероятность того, что к вечеру дня кофе останется в обоих автоматах.

Решение.

Рассмотрим события

A = кофе закончится в первом автомате,

B = кофе закончится во втором автомате.

Тогда

$A \cdot B$ = кофе закончится в обоих автоматах,

$A + B$ = кофе закончится хотя бы в одном автомате.

По условию $P(A) = P(B) = 0,25$; $P(A \cdot B) = 0,15$.

События A и B совместные, вероятность суммы двух совместных событий равна сумме вероятностей этих событий, уменьшенной на вероятность их произведения:

$$P(A + B) = P(A) + P(B) - P(A \cdot B) = 0,25 + 0,25 - 0,15 = 0,35.$$

Следовательно, вероятность противоположного события, состоящего в том, что кофе останется в обоих автоматах, равна $1 - 0,35 = 0,65$.

Ответ: 0,65.

Приведем другое решение.

Вероятность того, что кофе останется в первом автомате равна $1 - 0,25 = 0,75$. Вероятность того, что кофе останется во втором автомате равна $1 - 0,25 = 0,75$. Вероятность того, что кофе останется в первом или втором автомате равна $1 - 0,15 = 0,85$. Поскольку $P(A + B) = P(A) + P(B) - P(A \cdot B)$, имеем: $0,85 = 0,75 + 0,75 - x$, откуда искомая вероятность $x = 0,65$.

Примечание.

Заметим, что события А и В не являются независимыми. Действительно, вероятность произведения независимых событий была бы равна произведению вероятностей этих событий: $P(A \cdot B) = 0,25 \cdot 0,25 = 0,0625$, однако, по условию, эта вероятность равна 0,15.

Вариант 2

1. В сборнике билетов по математике всего 25 билетов, в 10 из них встречается вопрос по теме "Неравенства". Найдите вероятность того, что в случайно выбранном на экзамене билете школьнику **не достанется** вопроса по теме "Неравенства".

Решение.

Из 25 билетов 15 не содержат вопроса по теме "Неравенства", поэтому вероятность того, что в случайно выбранном на экзамене билете школьнику не достанется вопроса по теме "Неравенства", равна

Ответ: 0,6.

2. Если шахматист А. играет белыми фигурами, то он выигрывает у шахматиста Б. с вероятностью 0,5. Если А. играет черными, то А. выигрывает у Б. с вероятностью 0,3. Шахматисты А. и Б. играют две партии, причём во второй партии меняют цвет фигур. Найдите вероятность того, что А. выиграет оба раза.

Решение.

Возможность выиграть первую и вторую партию не зависят друг от друга. Вероятность произведения независимых событий равна произведению их вероятностей: $0,5 \cdot 0,3 = 0,15$.

Ответ: 0,15.

3. В случайном эксперименте симметричную монету бросают трижды. Найдите вероятность того, что выпадет хотя бы две решки.

Решение.

Всего возможных исходов — 8: орел-орел-орел, орел-орел-решка, орел-решка-решка, орел-решка-орел, решка-решка-решка, решка-решка-орел, решка-орел-орел, решка-орел-решка. Благоприятными являются четыре: решка-решка-решка, решка-решка-орел, решка-орел-решка, орел-решка-решка. Следовательно, искомая вероятность равна $4 : 8 = 0,5$.

Ответ: 0,5.

4. Агрофирма закупает куриные яйца в двух домашних хозяйствах. 60% яиц из первого хозяйства — яйца высшей категории, а из второго хозяйства — 70% яиц высшей категории. Всего высшую категорию получает 65% яиц. Найдите вероятность того, что яйцо, купленное у этой агрофирмы, окажется из первого хозяйства.

Решение.

Пусть x — искомая вероятность того, что куплено яйцо, произведенное в первом хозяйстве. Тогда $1-x$ — вероятность того, что куплено яйцо, произведенное во втором хозяйстве. По формуле полной вероятности имеем:

$$0,6x + (1-x)0,7 = 0,65$$

$$-0,1x = 0,05$$

$$x = 0,5$$

Ответ: 0,5.

5. Вероятность того, что новый электрический чайник прослужит больше года, равна 0,97. Вероятность того, что он прослужит больше двух лет, равна 0,89. Найдите вероятность того, что он прослужит меньше двух лет, но больше года.

Решение.

Пусть A = «чайник прослужит больше года, но меньше двух лет», B = «чайник прослужит больше двух лет», C = «чайник прослужит ровно два года», тогда $A + B + C$ = «чайник прослужит больше года».

События A , B и C несовместные, вероятность их суммы равна сумме вероятностей этих событий. Вероятность события C , состоящего в том, что чайник выйдет из строя ровно через два года — строго в тот же день, час и секунду — равна нулю. Тогда:

$$P(A + B + C) = P(A) + P(B) + P(C) = P(A) + P(B),$$

откуда, используя данные из условия, получаем

$$0,97 = P(A) + 0,89.$$

Тем самым, для искомой вероятности имеем:

$$P(A) = 0,97 - 0,89 = 0,08.$$

Ответ: 0,08.

6. В кармане у Пети было 4 монеты по рублю и 2 монеты по два рубля. Петя, не глядя, переложил какие-то 3 монеты в другой карман. Найдите вероятность того, что обе двухрублёвые монеты лежат в одном кармане.

Решение.

Двухрублевые монеты могут лежать в одном кармане, если Петя переложил в другой карман три из четырех рублевых монет (а двухрублевые не перекладывал), или если переложил в другой карман обе двухрублевые монеты и одну рублевую одним из трех способов: 1, 2, 2; 2, 1, 2; 2, 2, 1. Эти четыре события несовместные, вероятность их суммы равна сумме вероятностей этих событий:

Ответ: 0,4.

Чтобы пройти в следующий круг соревнований, футбольной команде нужно набрать хотя бы 4 очка в двух играх. Если команда выигрывает, она получает 3 очка, в случае ничьей — 1 очко, если проигрывает — 0 очков. Найдите вероятность того, что команде удастся выйти в следующий круг соревнований. Считайте, что в каждой игре вероятности выигрыша и проигрыша одинаковы и равны 0,4.

Решение.

Команда может получить не меньше 4 очков в двух играх тремя способами: 3+1, 1+3, 3+3. Эти события несовместны, вероятность их суммы равна сумме их вероятностей. Каждое из этих событий представляет собой произведение двух независимых событий — результата в первой и во второй игре. Отсюда имеем:

Ответ: 0,32.

Приведем другое решение.

Вероятность того, что кофе останется в первом автомате равна $1 - 0,25 = 0,75$. Вероятность того, что кофе останется во втором автомате равна $1 - 0,25 = 0,75$. Вероятность того, что кофе останется в первом или втором автомате равна $1 - 0,15 = 0,85$. Поскольку $P(A + B) = P(A) + P(B) - P(A \cdot B)$, имеем: $0,85 = 0,75 + 0,75 - x$, откуда искомая вероятность $x = 0,65$.

Примечание.

Заметим, что события A и B не являются независимыми. Действительно, вероятность произведения независимых событий была бы равна произведению вероятностей этих событий: $P(A \cdot B) = 0,25 \cdot 0,25 = 0,0625$, однако, по условию, эта вероятность равна 0,15.

35. Задание 4 № 286213

Перед началом первого тура чемпионата по бадминтону участников разбивают на игровые пары случайным образом с помощью жребия. Всего в чемпионате участвует 26 бадминтонистов, среди которых 16 спортсменов из России, в том числе Тарас Куницын. Найдите вероятность того, что в первом туре Тарас Куницын будет играть с каким-либо бадминтонистом из России.

Решение.

В первом туре Тарас Куницын может сыграть с бадминтонистами, из которых из России. Значит, вероятность того, что в первом туре Тарас Куницын будет играть с каким-либо бадминтонистом из России, равна

Ответ: 0,6.

Помещение освещается фонарём с тремя лампами. Вероятность перегорания одной лампы в течение года равна 0,21. Найдите вероятность того, что в течение года хотя бы одна лампа не перегорит.

Решение.

Найдем вероятность того, что перегорят три лампы. Эти события независимые, вероятность их произведения равно произведению вероятностей этих событий: $0,21 \cdot 0,21 \cdot 0,21 = 0,009261$.

Событие, состоящее в том, что не перегорит хотя бы одна лампа, противоположное. Следовательно, его вероятность равна $1 - 0,009261 = 0,990739$.

Ответ: 0,990739.

Помещение освещается фонарём с двумя лампами. Вероятность перегорания лампы в течение года равна 0,3. Найдите вероятность того, что в течение года хотя бы одна лампа не перегорит.

Решение.

Найдем вероятность того, что перегорят обе лампы. Эти события независимые, вероятность их произведения равно произведению вероятностей этих событий: $0,3 \cdot 0,3 = 0,09$.

Событие, состоящее в том, что не перегорит хотя бы одна лампа, противоположное. Следовательно, его вероятность равна $1 - 0,09 = 0,91$.

Ответ: 0,91

Механические часы с двенадцатичасовым циферблатом в какой-то момент сломались и перестали идти. Найдите вероятность того, что часовая стрелка остановилась, достигнув отметки 4, но не дойдя до отметки 7 часов.

Решение.

На циферблате между четырьмя часами и семью часами три часовых деления. Всего на циферблате 12 часовых делений. Поэтому искомая вероятность равна:

Ответ: 0,25.