

**Муниципальное бюджетное общеобразовательное учреждение
Вологодского муниципального района
«Васильевская средняя школа»**

<p align="center">«РАССМОТРЕНО» Педагогический совет МБОУ ВМР «Васильевская средняя школа» от 30.08.2021 г. №1</p>	<p align="center">«СОГЛАСОВАНО» Заместитель директора по УМР МБОУ ВМР «Васильевская средняя школа» Проничева Л.Ю.</p>	<p align="center">«УТВЕРЖДАЮ» Приказом директора МБОУ ВМР «Васильевская средняя школа» Тесаловской М.Н. №146 от 30 августа 2021 г.</p>
--	---	--



РАБОЧАЯ ПРОГРАММА

учебного курса «Алгебра»

для обучающихся 7-9 классов

Составитель: Васеничева С.В

Миловидова Е.В.

п.Васильевское 2023

Введение

Рабочая программа по учебному предмету базовый уровень разработана в соответствии с нормативными актами:

- Федеральный закон от 29.12.2012 № 273-ФЗ «Об образовании в Российской Федерации» (с последующими изменениями);

- Концепция развития математического образования в Российской Федерации, утверждена распоряжением Правительства РФ от 24.12.2013 № 2506-р;

- приказ Министерства образования и науки Российской Федерации от № 17.05.2012 № 413 «Об утверждении федерального государственного образовательного стандарта основного общего образования» (с последующими изменениями);

- приказ Министерства просвещения Российской Федерации от 28.12.2018 № 345 «О Федеральном перечне учебников, рекомендуемых к использованию при реализации имеющих государственную аккредитацию образовательных программ начального общего, основного общего, среднего общего образования» (с последующими изменениями);

- Примерная основная образовательная программа основного общего образования, одобрена решением федерального учебно-методического объединения по общему образованию (протокол заседания от 08,04,2015 № 1/15)(ред. от 28.10.2015);

– Основная образовательная программа основного общего образования МБОУ ВМР «Васильевская средняя школа»;

– «Положение о разработке рабочей программы по предмету МБОУ ВМР «Васильевская средняя школа»

– «Положение о формах, периодичности, порядке текущего контроля и промежуточной аттестации МБОУ ВМР «Васильевская средняя школа»

Алгебра : 7 класс: учебник для учащихся общеобразовательных учреждений / А.Г. Мерзляк, В.Б. Полонский, М.С. Якир. — М.: Вентана-Граф, 2016 г.

Алгебра : 7 класс: дидактические материалы: сборник задач и контрольных работ / А.Г. Мерзляк, В.Б. Полонский, М.С. Якир. — М.: Вентана-Граф, 2016.

Алгебра : 8 класс: учебник для учащихся общеобразовательных учреждений / А.Г. Мерзляк, В.Б. Полонский, М.С. Якир. — М.: Вентана-Граф, 2013 г.

Алгебра : 8 класс: дидактические материалы: сборник задач и контрольных работ / А.Г. Мерзляк, В.Б. Полонский, М.С. Якир. — М.: Вентана-Граф, 2015.

Алгебра : 9 класс: учебник для учащихся общеобразовательных учреждений /

А.Г. Мерзляк, В.Б. Полонский, М.С. Якир. — М.: Вентана-Граф, 2019 г.

Алгебра : 9 класс: дидактические материалы: сборник задач и контрольных работ / А.Г. Мерзляк, В.Б. Полонский, М.С. Якир. — М.: Вентана-Граф, 2019.

1) Планируемые результаты освоения учебного предмета.

1.1. Личностные результаты.

Личностные результаты освоения основной образовательной программы основного общего образования должны отражать:

1) воспитание российской гражданской идентичности: патриотизма, уважения к Отечеству, прошлое и настоящее многонационального народа России; осознание своей этнической принадлежности, знание истории, языка, культуры своего народа, своего края, основ культурного наследия народов России и человечества; усвоение гуманистических, демократических и традиционных ценностей многонационального российского общества; воспитание чувства ответственности и долга перед Родиной;

2) формирование ответственного отношения к учению, готовности и способности обучающихся к саморазвитию и самообразованию на основе мотивации к обучению и познанию, осознанному выбору и построению дальнейшей индивидуальной траектории образования на базе ориентировки в мире профессий и профессиональных предпочтений, с учетом устойчивых познавательных интересов, а также на основе формирования уважительного отношения к труду, развития опыта участия в социально значимом труде;

3) формирование целостного мировоззрения, соответствующего современному уровню развития науки и общественной практики, учитывающего социальное, культурное, языковое, духовное многообразие современного мира;

4) формирование осознанного, уважительного и доброжелательного отношения к другому человеку, его мнению, мировоззрению, культуре, языку, вере, гражданской позиции, к истории, культуре, религии, традициям, языкам, ценностям народов России и народов мира; готовности и способности вести диалог с другими людьми и достигать в нем взаимопонимания;

5) освоение социальных норм, правил поведения, ролей и форм социальной жизни в группах и сообществах, включая взрослые и социальные сообщества; участие в школьном самоуправлении и общественной жизни в пределах возрастных компетенций с учетом региональных, этнокультурных, социальных и экономических особенностей;

6) развитие морального сознания и компетентности в решении моральных проблем на основе личностного выбора, формирование нравственных чувств и нравственного поведения, осознанного и ответственного отношения к собственным

поступкам;

7) формирование коммуникативной компетентности в общении и сотрудничестве со сверстниками, детьми старшего и младшего возраста, взрослыми в процессе образовательной, общественно полезной, учебно-исследовательской, творческой и других видов деятельности;

8) формирование ценности здорового и безопасного образа жизни; усвоение правил индивидуального и коллективного безопасного поведения в чрезвычайных ситуациях, угрожающих жизни и здоровью людей, правил поведения на транспорте и на дорогах;

9) формирование основ экологической культуры, соответствующей современному уровню экологического мышления, развитие опыта экологически ориентированной рефлексивно-оценочной и практической деятельности в жизненных ситуациях;

10) осознание значения семьи в жизни человека и общества, принятие ценности семейной жизни, уважительное и заботливое отношение к членам своей семьи;

11) развитие эстетического сознания через освоение художественного наследия народов России и мира, творческой деятельности эстетического характера.

1.2. Метапредметные результаты

Метапредметные результаты освоения адаптированной образовательной программы основного общего образования должны отражать:

1) для глухих, слабослышащих, позднооглохших обучающихся:

- владение навыками определения и исправления специфических ошибок (аграмматизмов) в письменной и устной речи;

2) для обучающихся с расстройствами аутистического спектра:

- формирование способности планировать, контролировать и оценивать собственные учебные действия в соответствии с поставленной задачей и условиями ее реализации при сопровождающей помощи педагогического работника и организующей помощи тьютора;

- формирование умения определять наиболее эффективные способы достижения результата при сопровождающей помощи педагогического работника и организующей помощи тьютора;

- формирование умения выполнять действия по заданному алгоритму или образцу при сопровождающей помощи педагогического работника и организующей помощи тьютора;

- формирование умения оценивать результат своей деятельности в соответствии с заданными эталонами при организующей помощи тьютора;

- формирование умения адекватно реагировать в стандартной ситуации на успех и неудачу, конструктивно действовать даже в ситуациях неуспеха при организующей помощи тьютора;

- развитие способности самостоятельно обратиться к педагогическому работнику (педагогу-психологу, социальному педагогу) в случае личных затруднений в решении какого-либо вопроса;

- формирование умения активного использования знаково-символических средств для представления информации об изучаемых объектах и процессах, различных схем решения учебных и практических задач при организующей помощи педагога-психолога и тьютора;

- развитие способности самостоятельно действовать в соответствии с заданными эталонами при поиске информации в различных источниках, критически оценивать и интерпретировать получаемую информацию из различных источников.

Универсальные учебные действия:

Регулятивные УУД

1. Умение самостоятельно определять цели обучения, ставить и формулировать новые задачи в учебе и познавательной деятельности, развивать мотивы и интересы своей познавательной деятельности. Обучающийся сможет:

- анализировать существующие и планировать будущие образовательные результаты;

- идентифицировать собственные проблемы и определять главную проблему;

- выдвигать версии решения проблемы, формулировать гипотезы, предвосхищать конечный результат;

- ставить цель деятельности на основе определенной проблемы и существующих возможностей;

- формулировать учебные задачи как шаги достижения поставленной цели деятельности;

- обосновывать целевые ориентиры и приоритеты ссылками на ценности, указывая и обосновывая логическую последовательность шагов.

2. Умение самостоятельно планировать пути достижения целей, в том числе альтернативные, осознанно выбирать наиболее эффективные способы решения учебных и познавательных задач. Обучающийся сможет:

- определять необходимые действие(я) в соответствии с учебной и познавательной задачей и составлять алгоритм их выполнения;

- обосновывать и осуществлять выбор наиболее эффективных способов решения учебных и познавательных задач;

- определять/находить, в том числе из предложенных вариантов, условия для выполнения учебной и познавательной задачи;

- выстраивать жизненные планы на краткосрочное будущее (заявлять целевые ориентиры, ставить адекватные им задачи и предлагать действия, указывая и обосновывая логическую последовательность шагов);

- выбирать из предложенных вариантов и самостоятельно искать средства/ресурсы для решения задачи/достижения цели;

- составлять план решения проблемы (выполнения проекта, проведения исследования);

- определять потенциальные затруднения при решении учебной и познавательной задачи и находить средства для их устранения;

- описывать свой опыт, оформляя его для передачи другим людям в виде технологии решения практических задач определенного класса;

- планировать и корректировать свою индивидуальную образовательную траекторию.

3. Умение соотносить свои действия с планируемыми результатами, осуществлять контроль своей деятельности в процессе достижения результата, определять способы действий в рамках предложенных условий и требований, корректировать свои действия в соответствии с изменяющейся ситуацией. Обучающийся сможет:

- определять совместно с педагогом и сверстниками критерии планируемых результатов и критерии оценки своей учебной деятельности;

- систематизировать (в том числе выбирать приоритетные) критерии планируемых результатов и оценки своей деятельности;

- отбирать инструменты для оценивания своей деятельности, осуществлять самоконтроль своей деятельности в рамках предложенных условий и требований;

- оценивать свою деятельность, аргументируя причины достижения или отсутствия планируемого результата;

- находить достаточные средства для выполнения учебных действий в изменяющейся ситуации и/или при отсутствии планируемого результата;

- работая по своему плану, вносить коррективы в текущую деятельность на основе анализа изменений ситуации для получения запланированных характеристик продукта/результата;

- устанавливать связь между полученными характеристиками продукта и характеристиками процесса деятельности и по завершении деятельности предлагать изменение характеристик процесса для получения улучшенных характеристик продукта;

- сверять свои действия с целью и, при необходимости, исправлять ошибки самостоятельно.

4. Умение оценивать правильность выполнения учебной задачи, собственные возможности ее решения. Обучающийся сможет:

- определять критерии правильности (корректности) выполнения учебной задачи;

- анализировать и обосновывать применение соответствующего инструментария для выполнения учебной задачи;

- свободно пользоваться выработанными критериями оценки и самооценки, исходя из цели и имеющихся средств, различая результат и способы действий;

- оценивать продукт своей деятельности по заданным и/или самостоятельно определенным критериям в соответствии с целью деятельности;

- обосновывать достижимость цели выбранным способом на основе оценки своих внутренних ресурсов и доступных внешних ресурсов;

- фиксировать и анализировать динамику собственных образовательных результатов.

5. Владение основами самоконтроля, самооценки, принятия решений и осуществления осознанного выбора в учебной и познавательной. Обучающийся сможет:

- наблюдать и анализировать собственную учебную и познавательную деятельность и деятельность других обучающихся в процессе взаимопроверки;
- соотносить реальные и планируемые результаты индивидуальной образовательной деятельности и делать выводы;
- принимать решение в учебной ситуации и нести за него ответственность;
- самостоятельно определять причины своего успеха или неуспеха и находить способы выхода из ситуации неуспеха;
- ретроспективно определять, какие действия по решению учебной задачи или параметры этих действий привели к получению имеющегося продукта учебной деятельности;
- демонстрировать приемы регуляции психофизиологических/эмоциональных состояний для достижения эффекта успокоения (устранения эмоциональной напряженности), эффекта восстановления (ослабления проявлений утомления), эффекта активизации (повышения психофизиологической реактивности).

Познавательные УУД

6. Умение определять понятия, создавать обобщения, устанавливать аналогии, классифицировать, самостоятельно выбирать основания и критерии для классификации, устанавливать причинно-следственные связи, строить логическое рассуждение, умозаключение (индуктивное, дедуктивное, по аналогии) и делать выводы. Обучающийся сможет:

- подбирать слова, соподчиненные ключевому слову, определяющие его признаки и свойства;
- выстраивать логическую цепочку, состоящую из ключевого слова и соподчиненных ему слов;
- выделять общий признак двух или нескольких предметов или явлений и объяснять их сходство;
- объединять предметы и явления в группы по определенным признакам, сравнивать, классифицировать и обобщать факты и явления;
- выделять явление из общего ряда других явлений;
- определять обстоятельства, которые предшествовали возникновению связи между явлениями, из этих обстоятельств выделять определяющие, способные быть причиной данного явления, выявлять причины и следствия явлений;

- строить рассуждение от общих закономерностей к частным явлениям и от частных явлений к общим закономерностям;

- строить рассуждение на основе сравнения предметов и явлений, выделяя при этом общие признаки;

- излагать полученную информацию, интерпретируя ее в контексте решаемой задачи;

- самостоятельно указывать на информацию, нуждающуюся в проверке, предлагать и применять способ проверки достоверности информации;

- вербализовать эмоциональное впечатление, оказанное на него источником;

- объяснять явления, процессы, связи и отношения, выявляемые в ходе познавательной и исследовательской деятельности (приводить объяснение с изменением формы представления; объяснять, детализируя или обобщая; объяснять с заданной точки зрения);

- выявлять и называть причины события, явления, в том числе возможные/наиболее вероятные причины, возможные последствия заданной причины, самостоятельно осуществляя причинно-следственный анализ;

- делать вывод на основе критического анализа разных точек зрения, подтверждать вывод собственной аргументацией или самостоятельно полученными данными.

7. Умение создавать, применять и преобразовывать знаки и символы, модели и схемы для решения учебных и познавательных задач. Обучающийся сможет:

- обозначать символом и знаком предмет и/или явление;

- определять логические связи между предметами и/или явлениями, обозначать данные логические связи с помощью знаков в схеме;

- создавать абстрактный или реальный образ предмета и/или явления;

- строить модель/схему на основе условий задачи и/или способа ее решения;

- создавать вербальные, вещественные и информационные модели с выделением существенных характеристик объекта для определения способа решения задачи в соответствии с ситуацией;

- преобразовывать модели с целью выявления общих законов, определяющих данную предметную область;

- переводить сложную по составу (многоаспектную) информацию из графического или формализованного (символьного) представления в текстовое, и наоборот;

- строить схему, алгоритм действия, исправлять или восстанавливать неизвестный ранее алгоритм на основе имеющегося знания об объекте, к которому применяется алгоритм;

- строить доказательство: прямое, косвенное, от противного;

- анализировать/рефлексировать опыт разработки и реализации учебного проекта, исследования (теоретического, эмпирического) на основе предложенной проблемной ситуации, поставленной цели и/или заданных критериев оценки продукта/результата.

8. Смысловое чтение. Обучающийся сможет:

- находить в тексте требуемую информацию (в соответствии с целями своей деятельности);

- ориентироваться в содержании текста, понимать целостный смысл текста, структурировать текст;

- устанавливать взаимосвязь описанных в тексте событий, явлений, процессов;

- резюмировать главную идею текста;

- преобразовывать текст, "переводя" его в другую модальность, интерпретировать текст (художественный и нехудожественный - учебный, научно-популярный, информационный, текст non-fiction);

- критически оценивать содержание и форму текста.

9. Формирование и развитие экологического мышления, умение применять его в познавательной, коммуникативной, социальной практике и профессиональной ориентации. Обучающийся сможет:

- определять свое отношение к природной среде;

- анализировать влияние экологических факторов на среду обитания живых организмов;

- проводить причинный и вероятностный анализ экологических ситуаций;

- прогнозировать изменения ситуации при смене действия одного фактора на действие другого фактора;

- распространять экологические знания и участвовать в практических делах по защите окружающей среды;

- выражать свое отношение к природе через рисунки, сочинения, модели, проектные работы.

10. Развитие мотивации к овладению культурой активного использования словарей и других поисковых систем. Обучающийся сможет:

- определять необходимые ключевые поисковые слова и запросы;

- осуществлять взаимодействие с электронными поисковыми системами, словарями;

- формировать множественную выборку из поисковых источников для объективизации результатов поиска;

- соотносить полученные результаты поиска со своей деятельностью.

Коммуникативные УУД

11. Умение организовывать учебное сотрудничество и совместную деятельность с учителем и сверстниками; работать индивидуально и в группе: находить общее решение и разрешать конфликты на основе согласования позиций и учета интересов; формулировать, аргументировать и отстаивать свое мнение. Обучающийся сможет:

- определять возможные роли в совместной деятельности;

- играть определенную роль в совместной деятельности;

- принимать позицию собеседника, понимая позицию другого, различать в его речи: мнение (точку зрения), доказательство (аргументы), факты; гипотезы, аксиомы, теории;

- определять свои действия и действия партнера, которые способствовали или препятствовали продуктивной коммуникации;

- строить позитивные отношения в процессе учебной и познавательной деятельности;

- корректно и аргументированно отстаивать свою точку зрения, в дискуссии уметь выдвигать контраргументы, перефразировать свою мысль (владение механизмом эквивалентных замен);

- критически относиться к собственному мнению, с достоинством признавать ошибочность своего мнения (если оно таково) и корректировать его;
- предлагать альтернативное решение в конфликтной ситуации;
- выделять общую точку зрения в дискуссии;
- договариваться о правилах и вопросах для обсуждения в соответствии с поставленной перед группой задачей;
- организовывать учебное взаимодействие в группе (определять общие цели, распределять роли, договариваться друг с другом и т.д.);
- устранять в рамках диалога разрывы в коммуникации, обусловленные непониманием/неприятием со стороны собеседника задачи, формы или содержания диалога.

12. Умение осознанно использовать речевые средства в соответствии с задачей коммуникации для выражения своих чувств, мыслей и потребностей для планирования и регуляции своей деятельности; владение устной и письменной речью, монологической контекстной речью. Обучающийся сможет:

- определять задачу коммуникации и в соответствии с ней отбирать речевые средства;
- отбирать и использовать речевые средства в процессе коммуникации с другими людьми (диалог в паре, в малой группе и т.д.);
- представлять в устной или письменной форме развернутый план собственной деятельности;
- соблюдать нормы публичной речи, регламент в монологе и дискуссии в соответствии с коммуникативной задачей;
- высказывать и обосновывать мнение (суждение) и запрашивать мнение партнера в рамках диалога;
- принимать решение в ходе диалога и согласовывать его с собеседником;
- создавать письменные "клишированные" и оригинальные тексты с использованием необходимых речевых средств;
- использовать вербальные средства (средства логической связи) для выделения смысловых блоков своего выступления;
- использовать невербальные средства или наглядные материалы, подготовленные/отобранные под руководством учителя;

- делать оценочный вывод о достижении цели коммуникации непосредственно после завершения коммуникативного контакта и обосновывать его.

13. Формирование и развитие компетентности в области использования информационно-коммуникационных технологий (далее - ИКТ). Обучающийся сможет:

- целенаправленно искать и использовать информационные ресурсы, необходимые для решения учебных и практических задач с помощью средств ИКТ;

- выбирать, строить и использовать адекватную информационную модель для передачи своих мыслей средствами естественных и формальных языков в соответствии с условиями коммуникации;

- выделять информационный аспект задачи, оперировать данными, использовать модель решения задачи;

- использовать компьютерные технологии (включая выбор адекватных задаче инструментальных программно-аппаратных средств и сервисов) для решения информационных и коммуникационных учебных задач, в том числе: вычисление, написание писем, сочинений, докладов, рефератов, создание презентаций и др.;

- использовать информацию с учетом этических и правовых норм;

- создавать информационные ресурсы разного типа и для разных аудиторий, соблюдать информационную гигиену и правила информационной безопасности.

1.3. Предметные результаты:

Выпускник научится в 7 - 9 классах (для использования в повседневной жизни и обеспечения возможности успешного продолжения образования на базовом уровне)

Элементы теории множеств и математической логики

- Оперировать на базовом уровне <6> понятиями: множество, элемент множества, подмножество, принадлежность;

<6> Здесь и далее - распознавать конкретные примеры общих понятий по характерным признакам, выполнять действия в соответствии с определением и простейшими свойствами понятий, конкретизировать примерами общие понятия.

- задавать множества перечислением их элементов;

- находить пересечение, объединение, подмножество в простейших ситуациях;

- оперировать на базовом уровне понятиями: определение, аксиома, теорема, доказательство;

- приводить примеры и контрпримеры для подтверждения своих высказываний.

В повседневной жизни и при изучении других предметов:

- использовать графическое представление множеств для описания реальных процессов и явлений, при решении задач других учебных предметов.

Числа

- Оперировать на базовом уровне понятиями: натуральное число, целое число, обыкновенная дробь, десятичная дробь, смешанная дробь, рациональное число, арифметический квадратный корень;

- использовать свойства чисел и правила действий при выполнении вычислений;

- использовать признаки делимости на 2, 5, 3, 9, 10 при выполнении вычислений и решении несложных задач;

- выполнять округление рациональных чисел в соответствии с правилами;

- оценивать значение квадратного корня из положительного целого числа;

- распознавать рациональные и иррациональные числа;

- сравнивать числа.

В повседневной жизни и при изучении других предметов:

- оценивать результаты вычислений при решении практических задач;

- выполнять сравнение чисел в реальных ситуациях;

- составлять числовые выражения при решении практических задач и задач из других учебных предметов.

Тождественные преобразования

- Выполнять несложные преобразования для вычисления значений числовых выражений, содержащих степени с натуральным показателем, степени с целым отрицательным показателем;

- выполнять несложные преобразования целых выражений: раскрывать скобки, приводить подобные слагаемые;

- использовать формулы сокращенного умножения (квадрат суммы, квадрат разности, разность квадратов) для упрощения вычислений значений выражений;

- выполнять несложные преобразования дробно-линейных выражений и выражений с квадратными корнями.

В повседневной жизни и при изучении других предметов:

- понимать смысл записи числа в стандартном виде;
- оперировать на базовом уровне понятием "стандартная запись числа".

Уравнения и неравенства

- Оперировать на базовом уровне понятиями: равенство, числовое равенство, уравнение, корень уравнения, решение уравнения, числовое неравенство, неравенство, решение неравенства;

- проверять справедливость числовых равенств и неравенств;
- решать линейные неравенства и несложные неравенства, сводящиеся к линейным;
- решать системы несложных линейных уравнений, неравенств;
- проверять, является ли данное число решением уравнения (неравенства);
- решать квадратные уравнения по формуле корней квадратного уравнения;
- изображать решения неравенств и их систем на числовой прямой.

В повседневной жизни и при изучении других предметов:

- составлять и решать линейные уравнения при решении задач, возникающих в других учебных предметах.

Функции

- Находить значение функции по заданному значению аргумента;
- находить значение аргумента по заданному значению функции в несложных ситуациях;
- определять положение точки по ее координатам, координаты точки по ее положению на координатной плоскости;
- по графику находить область определения, множество значений, нули функции, промежутки знакопостоянства, промежутки возрастания и убывания, наибольшее и наименьшее значения функции;
- строить график линейной функции;

- проверять, является ли данный график графиком заданной функции (линейной, квадратичной, обратной пропорциональности);
- определять приближенные значения координат точки пересечения графиков функций;
- оперировать на базовом уровне понятиями: последовательность, арифметическая прогрессия, геометрическая прогрессия;
- решать задачи на прогрессии, в которых ответ может быть получен непосредственным подсчетом без применения формул.

В повседневной жизни и при изучении других предметов:

- использовать графики реальных процессов и зависимостей для определения их свойств (наибольшие и наименьшие значения, промежутки возрастания и убывания, области положительных и отрицательных значений и т.п.);
- использовать свойства линейной функции и ее график при решении задач из других учебных предметов.

Статистика и теория вероятностей

- Иметь представление о статистических характеристиках, вероятности случайного события, комбинаторных задачах;
- решать простейшие комбинаторные задачи методом прямого и организованного перебора;
- представлять данные в виде таблиц, диаграмм, графиков;
- читать информацию, представленную в виде таблицы, диаграммы, графика;
- определять основные статистические характеристики числовых наборов;
- оценивать вероятность события в простейших случаях;
- иметь представление о роли закона больших чисел в массовых явлениях.

В повседневной жизни и при изучении других предметов:

- оценивать количество возможных вариантов методом перебора;
- иметь представление о роли практически достоверных и маловероятных событий;
- сравнивать основные статистические характеристики, полученные в процессе решения прикладной задачи, изучения реального явления;

- оценивать вероятность реальных событий и явлений в несложных ситуациях.

Текстовые задачи

- Решать несложные сюжетные задачи разных типов на все арифметические действия;

- строить модель условия задачи (в виде таблицы, схемы, рисунка или уравнения), в которой даны значения двух из трех взаимосвязанных величин, с целью поиска решения задачи;

- осуществлять способ поиска решения задачи, в котором рассуждение строится от условия к требованию или от требования к условию;

- составлять план решения задачи;

- выделять этапы решения задачи;

- интерпретировать вычислительные результаты в задаче, исследовать полученное решение задачи;

- знать различие скоростей объекта в стоячей воде, против течения и по течению реки;

- решать задачи на нахождение части числа и числа по его части;

- решать задачи разных типов (на работу, на покупки, на движение), связывающих три величины, выделять эти величины и отношения между ними;

- находить процент от числа, число по проценту от него, находить процентное снижение или процентное повышение величины;

- решать несложные логические задачи методом рассуждений.

В повседневной жизни и при изучении других предметов:

- выдвигать гипотезы о возможных предельных значениях искомым в задаче величин (делать прикидку).

Выпускник получит возможность научиться в 7 - 9 классах для обеспечения возможности успешного продолжения образования на базовом и углубленном уровнях

Элементы теории множеств и математической логики

- Оперировать <7> понятиями: определение, теорема, аксиома, множество, характеристики множества, элемент множества, пустое, конечное и бесконечное множество, подмножество, принадлежность, включение, равенство множеств;

<7> Здесь и далее - знать определение понятия, уметь пояснять его смысл, уметь использовать понятие и его свойства при проведении рассуждений, доказательств, решении задач.

- изображать множества и отношение множеств с помощью кругов Эйлера;
- определять принадлежность элемента множеству, объединению и пересечению множеств;
- задавать множество с помощью перечисления элементов, словесного описания;
- оперировать понятиями: высказывание, истинность и ложность высказывания, отрицание высказываний, операции над высказываниями: и, или, не, условные высказывания (импликации);
- строить высказывания, отрицания высказываний.

В повседневной жизни и при изучении других предметов:

- строить цепочки умозаключений на основе использования правил логики;
- использовать множества, операции с множествами, их графическое представление для описания реальных процессов и явлений.

Числа

- Оперировать понятиями: множество натуральных чисел, множество целых чисел, множество рациональных чисел, иррациональное число, квадратный корень, множество действительных чисел, геометрическая интерпретация натуральных, целых, рациональных, действительных чисел;
- понимать и объяснять смысл позиционной записи натурального числа;
- выполнять вычисления, в том числе с использованием приемов рациональных вычислений;
- выполнять округление рациональных чисел с заданной точностью;
- сравнивать рациональные и иррациональные числа;
- представлять рациональное число в виде десятичной дроби;
- упорядочивать числа, записанные в виде обыкновенной и десятичной дроби;

- находить НОД и НОК чисел и использовать их при решении задач.

В повседневной жизни и при изучении других предметов:

- применять правила приближенных вычислений при решении практических задач и решении задач других учебных предметов;
- выполнять сравнение результатов вычислений при решении практических задач, в том числе приближенных вычислений;
- составлять и оценивать числовые выражения при решении практических задач и задач из других учебных предметов;
- записывать и округлять числовые значения реальных величин с использованием разных систем измерения.

Тождественные преобразования

- Оперировать понятиями степени с натуральным показателем, степени с целым отрицательным показателем;
- выполнять преобразования целых выражений: действия с одночленами (сложение, вычитание, умножение), действия с многочленами (сложение, вычитание, умножение);
- выполнять разложение многочленов на множители одним из способов: вынесение за скобку, группировка, использование формул сокращенного умножения;
- выделять квадрат суммы и разности одночленов;
- раскладывать на множители квадратный трехчлен;
- выполнять преобразования выражений, содержащих степени с целыми отрицательными показателями, переходить от записи в виде степени с целым отрицательным показателем к записи в виде дроби;
- выполнять преобразования дробно-рациональных выражений: сокращение дробей, приведение алгебраических дробей к общему знаменателю, сложение, умножение, деление алгебраических дробей, возведение алгебраической дроби в натуральную и целую отрицательную степень;
- выполнять преобразования выражений, содержащих квадратные корни;
- выделять квадрат суммы или разности двучлена в выражениях, содержащих квадратные корни;

- выполнять преобразования выражений, содержащих модуль.

В повседневной жизни и при изучении других предметов:

- выполнять преобразования и действия с числами, записанными в стандартном виде;
- выполнять преобразования алгебраических выражений при решении задач других учебных предметов.

Уравнения и неравенства

- Оперировать понятиями: уравнение, неравенство, корень уравнения, решение неравенства, равносильные уравнения, область определения уравнения (неравенства, системы уравнений или неравенств);

- решать линейные уравнения и уравнения, сводимые к линейным с помощью тождественных преобразований;

- решать квадратные уравнения и уравнения, сводимые к квадратным с помощью тождественных преобразований;

- решать дробно-линейные уравнения;

- решать простейшие иррациональные уравнения вида $\sqrt{f(x)} = a$,
 $\sqrt{f(x)} = \sqrt{g(x)}$;

- решать уравнения вида $x^n = a$;

- решать уравнения способом разложения на множители и замены переменной;

- использовать метод интервалов для решения целых и дробно-рациональных неравенств;

- решать линейные уравнения и неравенства с параметрами;

- решать несложные квадратные уравнения с параметром;

- решать несложные системы линейных уравнений с параметрами;

- решать несложные уравнения в целых числах.

В повседневной жизни и при изучении других предметов:

- составлять и решать линейные и квадратные уравнения, уравнения, к ним сводящиеся, системы линейных уравнений, неравенств при решении задач других учебных предметов;

- выполнять оценку правдоподобия результатов, получаемых при решении линейных и квадратных уравнений и систем линейных уравнений и неравенств при решении задач других учебных предметов;

- выбирать соответствующие уравнения, неравенства или их системы для составления математической модели заданной реальной ситуации или прикладной задачи;

- уметь интерпретировать полученный при решении уравнения, неравенства или системы результат в контексте заданной реальной ситуации или прикладной задачи.

Функции

- Оперировать понятиями: функциональная зависимость, функция, график функции, способы задания функции, аргумент и значение функции, область определения и множество значений функции, нули функции, промежутки знакопостоянства, монотонность функции, четность/нечетность функции;

- строить графики линейной, квадратичной функций, обратной пропорциональности, функции вида: $y = a + \frac{k}{x + b}$, $y = \sqrt{x}$, $y = |x|$;

- на примере квадратичной функции, использовать преобразования графика функции $y = f(x)$ для построения графиков функций $y = af(kx + b) + c$;

- составлять уравнения прямой по заданным условиям: проходящей через две точки с заданными координатами, проходящей через данную точку и параллельной данной прямой;

- исследовать функцию по ее графику;

- находить множество значений, нули, промежутки знакопостоянства, монотонности квадратичной функции;

- оперировать понятиями: последовательность, арифметическая прогрессия, геометрическая прогрессия;

- решать задачи на арифметическую и геометрическую прогрессию.

В повседневной жизни и при изучении других предметов:

- иллюстрировать с помощью графика реальную зависимость или процесс по их характеристикам;

- использовать свойства и график квадратичной функции при решении задач из других учебных предметов.

Текстовые задачи

- Решать простые и сложные задачи разных типов, а также задачи повышенной трудности;

- использовать разные краткие записи как модели текстов сложных задач для построения поисковой схемы и решения задач;

- различать модель текста и модель решения задачи, конструировать к одной модели решения несложной задачи разные модели текста задачи;

- знать и применять оба способа поиска решения задач (от требования к условию и от условия к требованию);

- моделировать рассуждения при поиске решения задач с помощью граф-схемы;

- выделять этапы решения задачи и содержание каждого этапа;

- уметь выбирать оптимальный метод решения задачи и осознавать выбор метода, рассматривать различные методы, находить разные решения задачи, если возможно;

- анализировать затруднения при решении задач;

- выполнять различные преобразования предложенной задачи, конструировать новые задачи из данной, в том числе обратные;

- интерпретировать вычислительные результаты в задаче, исследовать полученное решение задачи;

- анализировать всевозможные ситуации взаимного расположения двух объектов и изменение их характеристик при совместном движении (скорость, время, расстояние) при решении задач на движение двух объектов как в одном, так и в противоположных направлениях;

- исследовать всевозможные ситуации при решении задач на движение по реке, рассматривать разные системы отсчета;

- решать разнообразные задачи "на части",

- решать и обосновывать свое решение задач (выделять математическую основу) на нахождение части числа и числа по его части на основе конкретного смысла дроби;

- осознавать и объяснять идентичность задач разных типов, связывающих три величины (на работу, на покупки, на движение), выделять эти величины и отношения между ними, применять их при решении задач, конструировать собственные задач указанных типов;

- владеть основными методами решения задач на смеси, сплавы, концентрации;

- решать задачи на проценты, в том числе, сложные проценты с обоснованием, используя разные способы;

- решать логические задачи разными способами, в том числе, с двумя блоками и с тремя блоками данных с помощью таблиц;

- решать задачи по комбинаторике и теории вероятностей на основе использования изученных методов и обосновывать решение;

- решать несложные задачи по математической статистике;

- овладеть основными методами решения сюжетных задач: арифметический, алгебраический, перебор вариантов, геометрический, графический, применять их в новых по сравнению с изученными ситуациях.

В повседневной жизни и при изучении других предметов:

- выделять при решении задач характеристики рассматриваемой в задаче ситуации, отличные от реальных (те, от которых абстрагировались), конструировать новые ситуации с учетом этих характеристик, в частности, при решении задач на концентрации, учитывать плотность вещества;

- решать и конструировать задачи на основе рассмотрения реальных ситуаций, в которых не требуется точный вычислительный результат;

- решать задачи на движение по реке, рассматривая разные системы отсчета.

Статистика и теория вероятностей

- Оперировать понятиями: столбчатые и круговые диаграммы, таблицы данных, среднее арифметическое, медиана, наибольшее и наименьшее значения выборки, размах выборки, дисперсия и стандартное отклонение, случайная изменчивость;

- извлекать информацию, представленную в таблицах, на диаграммах, графиках;

- составлять таблицы, строить диаграммы и графики на основе данных;

- оперировать понятиями: факториал числа, перестановки и сочетания, треугольник Паскаля;

- применять правило произведения при решении комбинаторных задач;

- оперировать понятиями: случайный опыт, случайный выбор, испытание, элементарное случайное событие (исход), классическое определение вероятности случайного события, операции над случайными событиями;

- представлять информацию с помощью кругов Эйлера;

- решать задачи на вычисление вероятности с подсчетом количества вариантов с помощью комбинаторики.

В повседневной жизни и при изучении других предметов:

- извлекать, интерпретировать и преобразовывать информацию, представленную в таблицах, на диаграммах, графиках, отражающую свойства и характеристики реальных процессов и явлений;

- определять статистические характеристики выборок по таблицам, диаграммам, графикам, выполнять сравнение в зависимости от цели решения задачи;

- оценивать вероятность реальных событий и явлений.

2)Содержание курса алгебры в 7 - 9 классах

7 класс.

Уравнения(15)

Равенства Числовое равенство. Свойства числовых равенств. Равенство с переменной. Понятие уравнения и корня уравнения. Представление о равносильности уравнений. Область определения уравнения (область допустимых значений переменной). Линейное уравнение и его корни. Решение линейных уравнений. Линейное уравнение с параметром. Количество корней линейного уравнения. Решение линейных уравнений с параметром. Решение текстовых задач. Задачи на все арифметические действия. Решение текстовых задач арифметическим способом. Использование таблиц, схем, чертежей, других средств представления данных при решении задачи. Задачи на движение, работу и покупки.

Целые выражения(50)

Степень с натуральным показателем и ее свойства. Преобразования выражений, содержащих степени с натуральным показателем. Одночлен, многочлен. Действия с одночленами и многочленами (сложение, вычитание, умножение). Формулы сокращенного умножения: разность квадратов, квадрат суммы и разности. Разложение многочлена на множители: вынесение общего множителя за скобки, группировка, применение формул сокращенного умножения. Числовые и буквенные выражения. Выражение с переменной. Значение выражения. Подстановка выражений вместо переменных. Тождественные преобразования.

Системы уравнений (18)

Уравнение с двумя переменными. Линейное уравнение с двумя переменными. Прямая как графическая интерпретация линейного уравнения с двумя переменными. Понятие системы уравнений. Решение системы уравнений. Методы решения систем линейных уравнений с двумя переменными: графический метод, метод сложения, метод подстановки. Системы линейных уравнений с параметром. Задачи на части, доли, проценты

Функции (12)

Понятие функции Декартовы координаты на плоскости. Формирование представлений о метапредметном понятии "координаты". Способы задания функций: аналитический, графический, табличный. График функции. Примеры функций, получаемых в процессе исследования различных реальных процессов и решения задач. Значение функции в точке. Линейная функция. Свойства и график линейной функции. Угловой коэффициент прямой. Расположение графика линейной функции в зависимости от ее углового коэффициента и свободного члена. Нахождение коэффициентов линейной функции по заданным условиям: прохождение прямой через две точки с заданными координатами, прохождение прямой через данную точку и параллельной данной прямой.

8 класс

Рациональные выражения(44)

Дробно-рациональные выражения. Степень с целым показателем. Уравнения вида $x^n = a$. Уравнения в целых числах. Преобразование дробно-линейных выражений: сложение, умножение, деление. Алгебраическая дробь. Допустимые значения переменных в дробно-рациональных выражениях. Сокращение

алгебраических дробей. Приведение алгебраических дробей к общему знаменателю. Действия с алгебраическими дробями: сложение, вычитание, умножение, деление, возведение в степень. Дробно-рациональные уравнения. Решение простейших дробно-линейных уравнений. Решение дробнорациональных уравнений. Обратная

пропорциональность. Свойства функции $y = \frac{k}{x}$ $y = \frac{k}{x}$. Гипербола.

Квадратные корни. Действительные числа.(25)

Квадратичная функция. Свойства и график квадратичной функции (парабола). Построение графика квадратичной функции по точкам. Квадратные корни. Арифметический квадратный корень. Преобразование выражений, содержащих квадратные корни: умножение, деление, вынесение множителя из-под знака корня, внесение множителя под знак корня. Числа. Рациональные числа. Множество рациональных чисел. Сравнение рациональных чисел. Действия с рациональными числами. Представление рационального числа десятичной дробью. Иррациональные числа. Понятие иррационального числа. Распознавание иррациональных чисел. Примеры доказательств в алгебре. Иррациональность числа $\sqrt{2}$. Применение в геометрии. Сравнение иррациональных чисел. Множество действительных чисел. Простейшие иррациональные уравнения вида $\sqrt{f(x)} = a$, $\sqrt{f(x)} = \sqrt{g(x)}$.

Квадратные уравнения (26)

Квадратное уравнение и его корни. Квадратные уравнения. Неполные квадратные уравнения. Дискриминант квадратного уравнения. Формула корней квадратного уравнения. Теорема Виета. Теорема, обратная теореме Виета. Решение квадратных уравнений: использование формулы для нахождения корней, графический метод решения, разложение на множители, подбор корней с использованием теоремы Виета. Количество корней квадратного уравнения в зависимости от его дискриминанта. Биквадратные уравнения. Уравнения, сводимые к линейным и квадратным. Квадратный трехчлен, разложение квадратного трехчлена на множители. Квадратные уравнения с параметром. Методы решения уравнений: методы равносильных преобразований, метод замены переменной, графический метод. Использование свойств функций при решении уравнений. Основные методы решения текстовых задач: арифметический, алгебраический, перебор вариантов. Первичные представления о других методах

решения задач (геометрические и графические методы). Анализ возможных ситуаций взаимного расположения объектов при их движении, соотношения объемов выполняемых работ при совместной работе. Решение задач на нахождение части числа и числа по его части. Решение задач на проценты и доли. Применение пропорций при решении задач. Преобразование выражений, содержащих знак модуля.

9 класс

Неравенства

Неравенства. Числовые неравенства. Свойства числовых неравенств. Проверка справедливости неравенств при заданных значениях переменных. Неравенство с переменной. Строгие и нестрогие неравенства. Область определения неравенства (область допустимых значений переменной). Решение линейных неравенств. Системы неравенств с одной переменной. Решение систем неравенств с одной переменной: линейных, квадратных. Изображение решения системы неравенств на числовой прямой. Запись решения системы неравенств.

Квадратичная функция (38)

Свойства функций: область определения, множество значений, нули, промежутки знакопостоянства, четность/нечетность, промежутки возрастания и убывания, наибольшее и наименьшее значения. Исследование функции по ее графику. Представление об асимптотах. Непрерывность функции. Кусочно заданные функции. Нахождение нулей квадратичной функции, множества значений, промежутков знакопостоянства, промежутков монотонности. Графики функций. Преобразование графика Квадратное неравенство и его решения. Решение квадратных неравенств: использование свойств и графика квадратичной функции, метод интервалов. Запись решения квадратного неравенства. функции $y = f(x)$ для построения графиков функций вида $y = af(kx + b) + c$. Решение систем неравенств с одной переменной: линейных, квадратных. Изображение решения системы неравенств на числовой прямой. Запись решения системы

неравенств. Графики функций $y = a + \frac{k}{x+b}$, $y = \sqrt{x}$, $y = \sqrt[3]{x}$, $y = |x|$.

Элементы прикладной математики(20)

Статистика и теория вероятностей. Табличное и графическое представление данных, столбчатые и круговые диаграммы, графики, применение диаграмм и графиков для описания зависимостей реальных величин, извлечение информации

из таблиц, диаграмм и графиков. Описательные статистические показатели числовых наборов: среднее арифметическое, медиана, наибольшее и наименьшее значения. Меры рассеивания: размах, дисперсия и стандартное отклонение. Случайная изменчивость. Изменчивость при измерениях. Решающие правила. Закономерности в изменчивых величинах. Случайные события. Случайные опыты (эксперименты), элементарные случайные события (исходы). Вероятности элементарных событий. События в случайных экспериментах и благоприятствующие элементарные события. Вероятности случайных событий. Опыты с равновероятными элементарными событиями. Классические вероятностные опыты с использованием монет, кубиков. Представление событий с помощью диаграмм Эйлера. Противоположные события, объединение и пересечение событий. Правило сложения вероятностей. Случайный выбор. Представление эксперимента в виде дерева. Независимые события. Умножение вероятностей независимых событий. Последовательные независимые испытания. Представление о независимых событиях в жизни. Элементы комбинаторики. Правило умножения, перестановки, факториал числа. Сочетания и число сочетаний. Формула числа сочетаний. Треугольник Паскаля. Опыты с большим числом равновероятных элементарных событий. Вычисление вероятностей в опытах с применением комбинаторных формул. Испытания Бернулли. Успех и неудача. Вероятности событий в серии испытаний Бернулли. Случайные величины. Знакомство со случайными величинами на примерах конечных дискретных случайных величин. Распределение вероятностей. Математическое ожидание. Свойства математического ожидания. Понятие о законе больших чисел. Измерение вероятностей. Применение закона больших чисел в социологии, страховании, в здравоохранении, обеспечении безопасности населения в чрезвычайных ситуациях. Логические задачи. Решение логических задач. Решение логических задач с помощью графов, таблиц.

Числовые последовательности (20)

Последовательности и прогрессии. Числовая последовательность. Примеры числовых последовательностей. Бесконечные последовательности. Арифметическая прогрессия и ее свойства. Геометрическая прогрессия. Формула общего члена и суммы n первых членов арифметической и геометрической прогрессий. Сходящаяся геометрическая прогрессия.

3) Тематическое планирование

№ п/п	Тема раздела	Воспитательный компонент	ЭОР	Кол-во часов
	7 класс			
1	Линейное уравнение с одной переменной	Формирование толерантного сознания и поведения в поликультурном мире, готовности и способности вести диалог с другими людьми, достигать в нем взаимопонимания, находить общие цели и сотрудничать для их достижения	https://resh.edu.ru/	14
2	Целые выражения	Формирование мировоззрения, соответствующего современному уровню развития науки и общественной практики	https://resh.edu.ru/	50
3	Функции	Формирование мировоззрения, соответствующего современному уровню развития науки и общественной практики	https://resh.edu.ru/	12
4	Системы линейных уравнений с двумя переменными	Организация коммуникации относительно позиционирования обучающегося в профессионально-трудовой области.	https://resh.edu.ru/	18

5	Повторение и систематизация учебного материала.	Добровольческая, коммуникативная, познавательная, игровая, рефлексивно-оценочная, художественно-эстетическая и другие виды деятельности	https://resh.edu.ru/	6
6	Входной контроль	Развитие в детской среде ответственности, принципов коллективизма и социальной солидарности	https://resh.edu.ru/	1
7	Промежуточная аттестация			1
8	Всего за год			102
	8 класс			
1	Рациональные выражения	Воспитание патриотизма, чувства гордости за свой край, за свою Родину	https://resh.edu.ru/	43
2	Квадратные корни. Действительные числа.	Добровольческая, коммуникативная, познавательная, игровая, рефлексивно-оценочная, художественно-эстетическая и другие виды деятельности	https://resh.edu.ru/	25
3	Квадратные уравнения.	Формирование мировоззрения, соответствующего современному уровню развития науки и общественной практики	https://resh.edu.ru/	26

4	Повторение и систематизация учебного материала.	Развитие в детской среде ответственности, принципов коллективизма и социальной солидарности	https://resh.edu.ru/	6
5	Входной контроль			1
6	Промежуточная аттестация			1
7	Всего за год			102
	9 класс			
1	Неравенства	Формирование мировоззрения, соответствующего современному уровню развития науки и общественной практики	https://resh.edu.ru/	20
2	Квадратичная функция	Развитие в детской среде ответственности, принципов коллективизма и социальной солидарности	https://resh.edu.ru/	32
3	Элементы прикладной математики	Воспитание патриотизма, чувства гордости за свой край, за свою Родину	https://resh.edu.ru/	20
4	Числовые последовательности	Формирование толерантного сознания и поведения в поликультурном мире, готовности и способности вести диалог с другими людьми, достигать в нем взаимопонимания, находить общие цели и сотрудничать для их достижения	https://resh.edu.ru/	20

5	Повторение и систематизация учебного материала.	Формирование мировоззрения, соответствующего современному уровню развития науки и общественной практики	https://resh.edu.ru/	6
6	Входной контроль			1
7	Промежуточная аттестация			3
8	Всего за год			102
9	Всего на учебный предмет			306

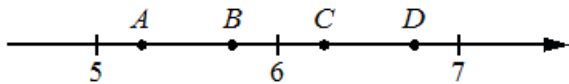
Промежуточная аттестация

7 класс

Вариант 1

1) Найдите значение выражения $-0,8 \cdot (-10)^4 + 1 \cdot (-10)^2 - 51$.

2) На координатной прямой отмечены точки **A**, **B**, **C**, и **D**.



63

Одна из них соответствует числу **11**. Какая это точка?

- 1) точка A
- 2) точка B
- 3) точка C
- 4) точка D

3) В таблице даны результаты забега мальчиков 8-го класса на дистанцию 60 м.

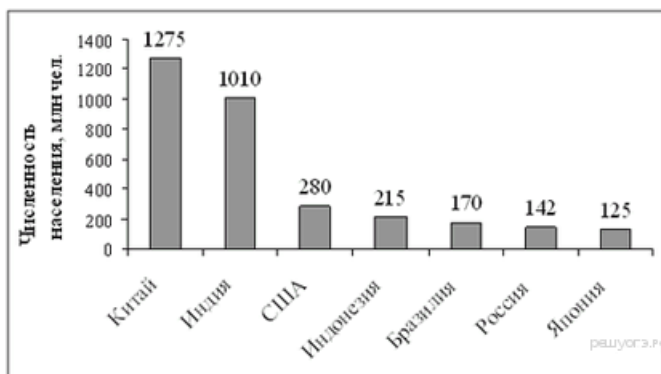
Номер дорожки	1	2	3	4
Время (с)	10,3	10,7	11,0	9,1

Зачёт выставляется, если показано время не хуже 10,5 с. Выпишите номера дорожек, по которым бежали мальчики, получившие зачёт

4) Найдите значение выражения $(5^2 \cdot 5^3)^4 / (5 \cdot 5^5)^3$.

5) На диаграмме представлены некоторые из крупнейших по численности населения стран мира.

Численность населения какого государства примерно в 6 раз меньше численности населения Китая? В ответе напишите численность населения этого государства в млн чел.



6) Решите уравнение $-9(8-9x) = 4x+5$

7) Плата за телефон составляет 350 рублей в месяц. В следующем году она увеличится на 14%. Сколько рублей придётся платить ежемесячно за телефон в следующем году?

8) На диаграмме показано содержание питательных веществ в твороге.

Определите по диаграмме, содержание каких веществ преобладает.



*к прочему относятся вода, витамины и минеральные вещества

- 1) белки
- 2) жиры
- 3) углеводы
- 4) прочее

В ответе запишите номер выбранного варианта ответа.

9) У бабушки 20 чашек: 5 с красными цветами, остальные с синими. Бабушка наливает чай в случайно выбранную чашку. Найдите вероятность того, что это будет чашка с синими цветами.

10) Установите соответствие между графиками функций и формулами, которые их задают.

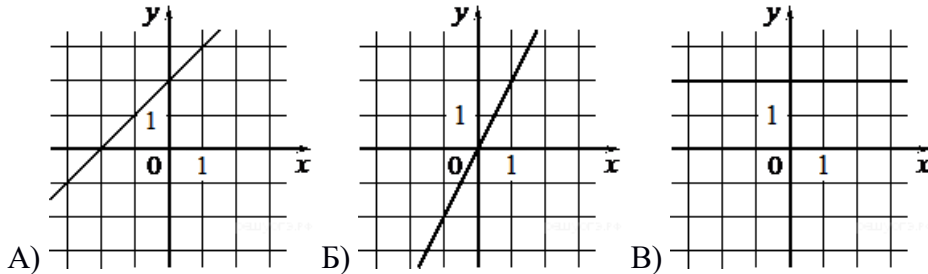
Функции

1) $y = 2x$

2) $y = x + 2$

3) $y = 2$

Графики



Запишите в ответ цифры, расположив их в порядке, соответствующем буквам:

А	Б	В

11) В первом ряду кинозала 25 мест, а в каждом следующем на 2 больше, чем в предыдущем. Сколько мест в шестом ряду?

12) Упростите выражение $(a + 2)^2 - a(4 - 7a)$, найдите его значение при $a = -0,5$. В ответ запишите полученное число.

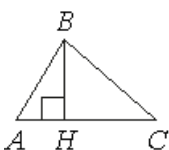
13) Зная длину своего шага, человек может приблизительно подсчитать пройденное им расстояние s по формуле $s = nl$, где n — число шагов, l — длина шага. Какое расстояние прошёл человек, если $l = 70$ см, $n = 1400$? Ответ выразите в километрах.

14) решите систему уравнений: $\begin{cases} x+y = 7 \\ x-3y = -5 \end{cases}$

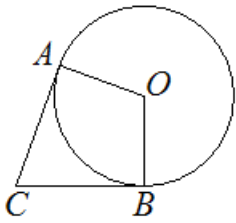
$$\begin{cases} x+y = 7 \\ x-3y = -5 \end{cases}$$

15) Пол комнаты, имеющей форму прямоугольника со сторонами 5 м и 8 м, требуется покрыть паркетом из прямоугольных дощечек со сторонами 5 см и 40 см. Сколько потребуется таких дощечек?

16) В остроугольном треугольнике ABC проведена высота BH, $\angle BAC = 46^\circ$. Найдите угол ABH. Ответ дайте в градусах.

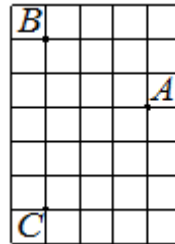


17) В угол C величиной 84° вписана окружность, которая касается сторон угла в точках A и B, точка O — центр окружности. Найдите угол AOB. Ответ дайте в градусах



18) Периметр квадрата равен 56. Найдите площадь квадрата.

19) На клетчатой бумаге с размером клетки 1×1 отмечены три точки: A, B и C. Найдите расстояние от точки A до прямой BC.



20) Какое из следующих утверждений верно?

- 1) Все диаметры окружности равны между собой.
- 2) Смежные углы всегда равны.
- 3) Каждая из биссектрис равнобедренного треугольника является его высотой.

В ответ запишите номер выбранного утверждения.

Вторая часть

21) Решите систему уравнений:

$$\begin{cases} 2(3x - 4y) - 4(y + 5) = 4 \\ 3(8y - 5) - (7 - 2x) = -42 \end{cases}$$

22) Катер за 4 ч движения по течению реки и 3 ч по озеру прошел 148 км. найдите скорость катера в стоячей воде и скорость течения реки, если за 5 ч движения против течения реки он проходит на 50 км больше, чем за 2 ч по озеру.

23) Первая прямая проходит через точки $(0; 4,5)$ и $(3; 6)$. Вторая прямая проходит через точки $(1; 2)$ и $(-4; 7)$. Найдите координаты общей точки этих двух прямых.

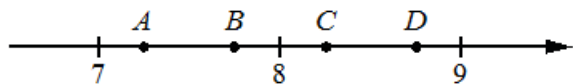
24) В треугольнике ABC углы A и C равны 20° и 50° соответственно. Найдите угол между высотой BH и биссектрисой BD.

25) В остроугольном треугольнике ABC проведены высоты BB₁ и CC₁. Докажите, что углы BB₁C₁ и BCC₁ равны.

Вариант 2

1) Найдите значение выражения $-0,4 \cdot (-10)^4 - 7 \cdot (-10)^3 + 33$.

2) На координатной прямой отмечены точки A , B , C , и D .



Одна из них соответствует числу $\frac{58}{7}$. Какая это точка?

- 1) точка A
- 2) точка B
- 3) точка C
- 4) точка D

3) В таблице приведены нормативы по бегу на 30 метров для учащихся 9-х классов.

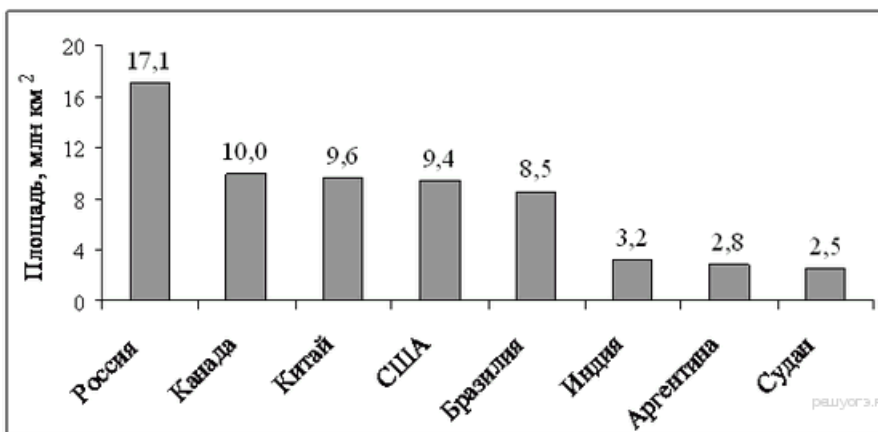
Отметка	Мальчики			Девочки		
	«отл.»	«хор.»	«удовл.»	«отл.»	«хор.»	«удовл.»
Время, секунды	4,6	4,9	5,3	5,0	5,5	5,9

Какую отметку получит девочка, пробежавшая эту дистанцию за 5,36 секунды?

- 1) Отлично
- 2) Хорошо
- 3) Удовлетворительно
- 4) Норматив не выполнен

4) Найдите значение выражения $(7^2 \cdot 7^4)^5 / (7 \cdot 7^6)^4$.

5) На диаграмме представлены некоторые из крупнейших по площади территории стран мира. Во сколько примерно раз площадь США больше площади Судана? (Ответ округлите до целых.)



6) Решите уравнение $3x + 5 + (x+5) = (x-1) + 4$

7) Плата за телефон составляет 210 рублей в месяц. В следующем году она увеличится на 10%. Сколько рублей придётся платить ежемесячно за телефон в следующем году?

8) На диаграмме показано содержание питательных веществ в творожных сырках. Определите по диаграмме, содержание каких веществ преобладает.



*к прочему относятся вода, витамины и минеральные вещества

- 1) белки
- 2) жиры
- 3) углеводы
- 4) прочее

В ответе запишите номер выбранного варианта ответа.

9) На тарелке 12 пирожков: 5 с мясом, 4 с капустой и 3 с вишней. Наташа наугад выбирает один пирожок. Найдите вероятность того, что он окажется с вишней.

10) Установите соответствие между графиками функций и формулами, которые их задают

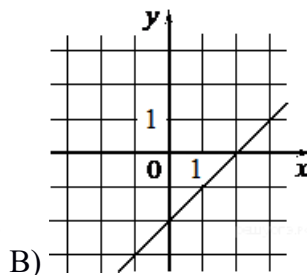
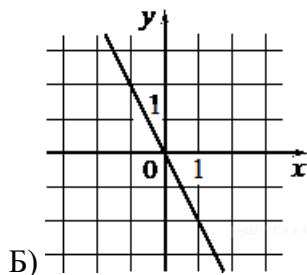
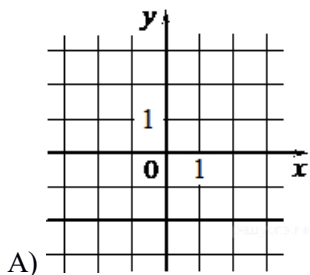
Функции

1) $y = -2$

2) $y = x - 2$

3) $y = -2x$

Графики



Запишите в ответ цифры, расположив их в порядке, соответствующем буквам:

А	Б	В

11) В первом ряду кинозала 24 места, а в каждом следующем на 2 больше, чем в предыдущем. Сколько мест в восьмом ряду?

12) Упростите выражение $(2 - c)^2 - c(c + 4)$, найдите его значение при $c = 0,5$. В ответ запишите полученное число.

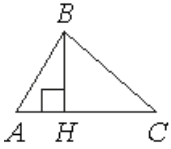
13) Зная длину своего шага, человек может приблизительно подсчитать пройденное им расстояние s по формуле $s = nl$, где n — число шагов, l — длина шага. Какое расстояние прошёл человек, если $l = 50$ см, $n = 1200$? Ответ выразите в километрах.

14) Решите систему уравнений $\begin{cases} 4x - y = 3 \\ x - y = 6 \end{cases}$

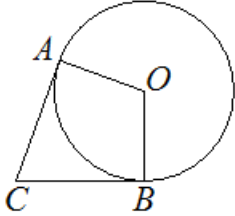
$$\begin{cases} 4x - y = 3 \\ x - y = 6 \end{cases}$$

15) Пол комнаты, имеющей форму прямоугольника со сторонами 4 м и 10 м, требуется покрыть паркетом из прямоугольных дощечек со сторонами 5 см и 20 см. Сколько потребуется таких дощечек?

16) В остроугольном треугольнике ABC проведена высота BH, $\angle BAC = 55^\circ$. Найдите угол ABH. Ответ дайте в градусах.

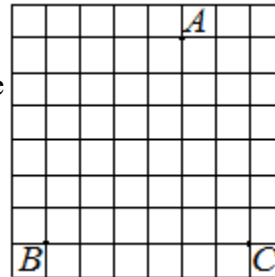


17) В угол C величиной 89° вписана окружность, которая касается сторон угла в точках A и B , точка O — центр окружности. Найдите угол AOB . Ответ дайте в градусах



18) Периметр квадрата равен 56. Найдите площадь квадрата

19) На клетчатой бумаге с размером клетки 1×1 отмечены три точки: A , B и C . Найдите расстояние от точки A до прямой BC .



20) Какие из следующих утверждений верны?

- 1) Через точку, не лежащую на данной прямой, можно провести прямую, параллельную этой прямой.
- 2) . Треугольник со сторонами 1, 2, 4 существует.
- 3) Расстояние от точки, лежащей на окружности, до центра окружности равно радиусу.

В ответ запишите номера выбранных утверждений без пробелов, запятых и других дополнительных символов.

Вторая часть

21) Решите систему уравнений:

$$\begin{cases} 2(5x - 4) - 3(3 - 4y) = 5 \\ 6(7y - 1) - (2 + 3x) = 31 \end{cases}$$

22) Лодка за 3 ч движения по течению реки и 4 ч против течения проходит 114 км. Найдите скорость лодки по течению и ее скорость против течения, если за 6 часов движения она проходит такой же путь, как за 5 ч по течению.

23) Первая прямая проходит через точки $(0; 4,5)$ и $(3; 6)$. Вторая прямая проходит через точки $(1; 2)$ и $(-4; 7)$. Найдите координаты общей точки этих двух прямых.

24) В треугольнике ABC углы A и C равны 20° и 60° соответственно. Найдите угол между высотой BH и биссектрисой BD .

25) В остроугольном треугольнике ABC проведены высоты AA_1 и CC_1 . Докажите, что углы CC_1A_1 и CAA_1 равны.

8 класс

вариант 1

1) Найдите значение выражения $-0,8 \cdot (-10)^4 + 1 \cdot (-10)^2 - 51$.

2) В таблице приведены размеры штрафов, установленные на территории России с 1 сентября 2013 года, за превышение максимальной разрешённой скорости, зафиксированное с помощью средств автоматической фиксации.

Превышение скорости (в км/ч)	21–40	41–60	61–80	81 и более
Размер штрафа (в руб.)	500	1000	2000	5000

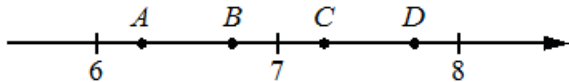
Какой штраф должен заплатить владелец автомобиля, зафиксированная скорость которого составила 156 км/ч на участке дороги с максимальной разрешённой скоростью 100 км/ч?

- | | |
|----|-------------|
| 1) | 500 рублей |
| 2) | 1000 рублей |
| 3) | 2000 рублей |
| 4) | 5000 рублей |

$$\frac{(3^3)^{-6}}{3^{-20}} ?$$

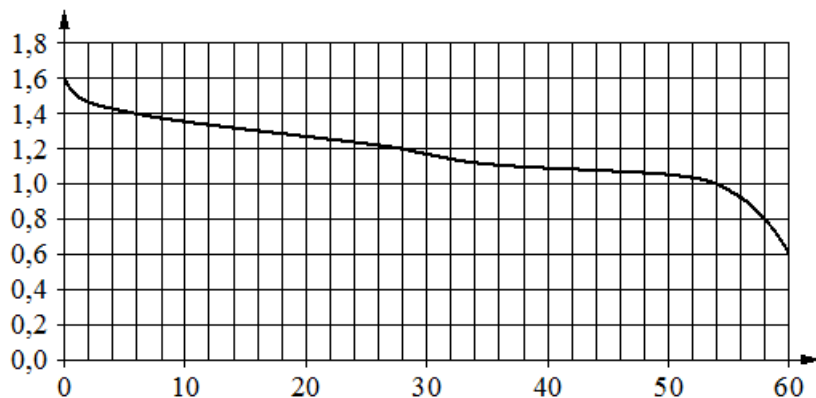
4) Какое из данных ниже чисел является значением выражения

4) На координатной прямой отмечены точки A, B, C, D. Одна из них соответствует числу $45 - \sqrt{}$. Какая это точка?



- | | |
|----|---------|
| 1) | точка A |
| 2) | точка B |
| 3) | точка C |
| 4) | точка D |

5) При работе фонарика батарейка постепенно разряжается и напряжение в электрической цепи фонарика падает. На графике показана зависимость напряжения в цепи от времени работы фонарика. На горизонтальной оси отмечено время работы фонарика в часах, на вертикальной оси — напряжение в вольтах. Определите по графику, за сколько часов работы фонарика напряжение упадет с 1,6 В до 1,4 В.



6) Решите уравнение $x^2 + 4x = 5$.

Если уравнение имеет более одного корня, в ответ запишите меньший из корней.

7) Средний вес мальчиков того же возраста, что и Ваня, равен 66 кг. Вес Вани составляет 60% среднего веса. Сколько килограммов весит Ваня?

8) На диаграмме показано содержание питательных веществ в сливочном мороженом. Определите по диаграмме, содержание каких веществ превосходит 25%.



*к прочему относятся вода, витамины и минеральные вещества

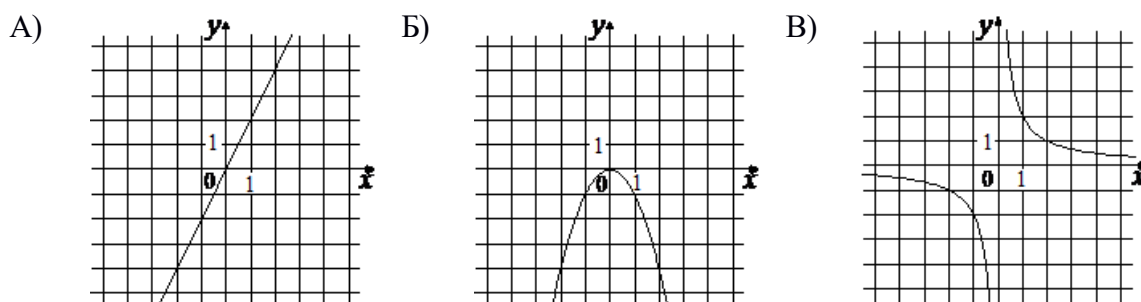
- | | |
|----|----------|
| 1) | белки |
| 2) | жиры |
| 3) | углеводы |
| 4) | прочее |

В ответ запишите номера выбранных вариантов ответов без пробелов, запятых и других дополнительных символов.

9) В фирме такси в данный момент свободно 10 машин: 5 чёрных, 1 жёлтая и 4 зелёных. По вызову выехала одна из машин, случайно оказавшаяся ближе всего к заказчику. Найдите вероятность того, что к нему приедет жёлтое такси.

10) Установите соответствие между графиками функций и формулами, которые их задают.

ГРАФИКИ



ФОРМУЛЫ

- | | | | | | |
|----|--------|----|----------|----|--------|
| 1) | $y=2x$ | 2) | $y=-x^2$ | 3) | $y=2x$ |
|----|--------|----|----------|----|--------|

В таблице под каждой буквой укажите соответствующий номер.

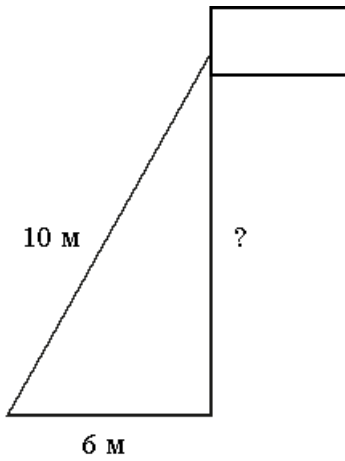
11) В первом ряду кинозала 50 мест, а в каждом следующем на 2 больше, чем в предыдущем. Сколько мест в девятом ряду?

12) Найдите значение выражения $4a/(a+b) \cdot (ab+b^2)/16a$ при $a=9,2$, $b=18$.

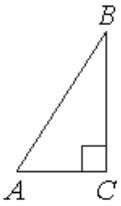
13) В фирме «Эх, прокачу!» стоимость поездки на такси (в рублях) длительностью более 5 минут рассчитывается по формуле $S=150+11(t-5)$, где t — длительность поездки (в минутах). Пользуясь этой формулой, рассчитайте стоимость 8-минутной поездки. Ответ дайте в рублях.

14) Решите систему уравнений : $\begin{cases} 4x - 2y = 2 \\ 2x + y = 5 \end{cases}$

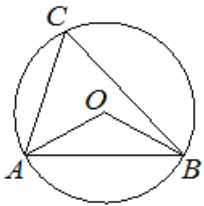
15) Флагшток удерживается в вертикальном положении при помощи троса. Расстояние от основания флагштока до места крепления троса на земле равно 6 м. Длина троса равна 10 м. Найдите расстояние от земли до точки крепления троса. Ответ дайте в метрах.



16) В треугольнике ABC угол C равен 90° , $AC=6$, $AB=10$. Найдите $\sin B$.



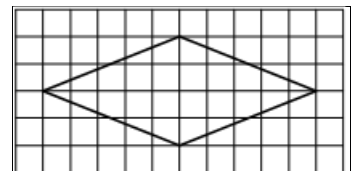
17) Треугольник ABC вписан в окружность с центром в точке O. Точки O и C лежат в одной полуплоскости относительно прямой AB. Найдите угол ACB, если угол AOB равен 113° . Ответ дайте в градусах.



18) Основания трапеции равны 4 и 12, а высота равна 6. Найдите площадь этой трапеции.



19) На клетчатой бумаге с размером клетки 1×1 изображён ромб. Найдите площадь этого ромба.



20) Какое из следующих утверждений верно?

- 1) Все диаметры окружности равны между собой.
- 2) Диагональ трапеции делит её на два равных треугольника.
- 3) Площадь любого параллелограмма равна произведению длин его сторон.

В ответ запишите номер выбранного утверждения.

Вторая часть

21) Решите уравнение $(x-1)^4 - 2(x-1)^2 - 3 = 0$.

22) Два автомобиля одновременно отправляются в 930-километровый пробег. Первый едет со скоростью на 31 км/ч большей, чем второй, и прибывает к финишу на 5 ч раньше второго. Найдите скорость первого автомобиля.

24) Отрезки АВ и DC лежат на параллельных прямых, а отрезки АС и ВD пересекаются в точке М. Найдите МС, если АВ=13, DC=65, АС=42.

25) В треугольнике АВС с тупым углом АВС проведены высоты АА1 и СС1. Докажите, что треугольники А1ВС1 и АВС подобны.

Вариант 2

1) Найдите значение выражения $0,8 \cdot (-10)^4 + 3 \cdot (-10)^3 + 78$.

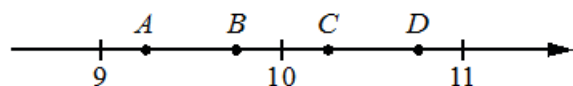
2) В таблице приведены размеры штрафов, установленные на территории России с 1 сентября 2013 года, за превышение максимальной разрешённой скорости, зафиксированное с помощью средств автоматической фиксации.

Превышение скорости (в км/ч)	21–40	41–60	61–80	81 и более
Размер штрафа (в руб.)	500	1000	2000	5000

Какой штраф должен заплатить владелец автомобиля, зафиксированная скорость которого составила 147 км/ч на участке дороги с максимальной разрешённой скоростью 100 км/ч?

- 1) 500 рублей
- 2) 1000 рублей
- 3) 2000 рублей
- 4) 5000 рублей

3) На координатной прямой отмечены точки А, В, С, D. Одна из них соответствует числу $85 - \sqrt{}$. Какая это точка?

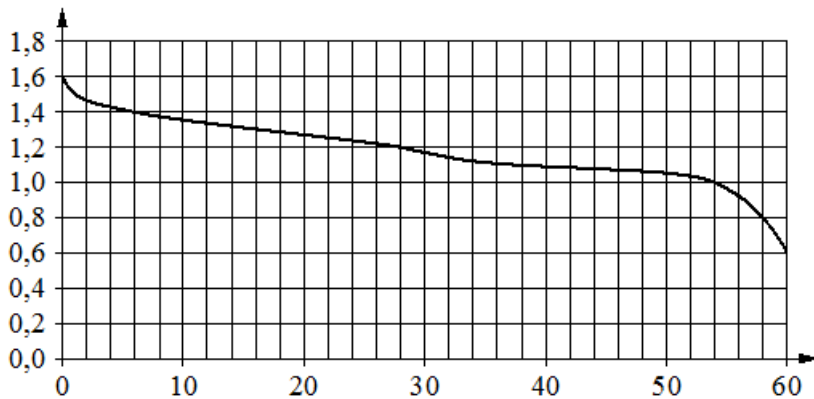


- 1) точка А
 2) точка В
 3) точка С
 4) точка D

$$\frac{(8^4)^{-5}}{8^{-19}} ?$$

4) Какое из данных ниже чисел является значением выражения $\frac{(8^4)^{-5}}{8^{-19}}$?

5) при работе фонарика батарейка постепенно разряжается и напряжение в электрической цепи фонарика падает. На графике показана зависимость напряжения в цепи от времени работы фонарика. На горизонтальной оси отмечено время работы фонарика в часах, на вертикальной оси — напряжение в вольтах. Определите по графику, за сколько часов работы фонарика напряжение упадёт с 1,6 В до 1,2 В.



6) Решите уравнение $x^2 - 7x = 8$.

Если уравнение имеет более одного корня, в ответ запишите больший из корней.

7) Банк начисляет на счёт 12% годовых. Вкладчик положил на счёт 1200 рублей. Сколько рублей будет на этом счёте через год, если никаких операций, кроме начисления процентов, со счётом проводиться не будет?

8) На диаграмме показано содержание питательных веществ в творожных сырках. Определите по диаграмме, содержание каких веществ превосходит 30%.



*к прочему относятся вода, витамины и минеральные вещества

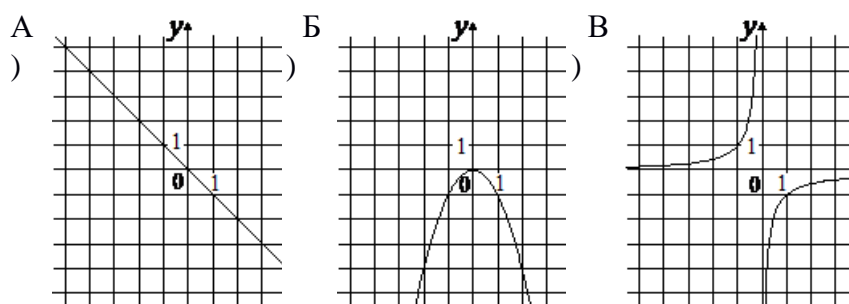
- | | |
|----|----------|
| 1) | белки |
| 2) | жиры |
| 3) | углеводы |
| 4) | прочее |

В ответе запишите номер выбранного варианта ответа.

9) В фирме такси в данный момент свободно 15 машин: 4 чёрных, 3 жёлтых и 8 зелёных. По вызову выехала одна из машин, случайно оказавшаяся ближе всего к заказчику. Найдите вероятность того, что к нему приедет жёлтое такси.

10) Установите соответствие между графиками функций и формулами, которые их задают.

ГРАФИКИ



ФОРМУЛЫ

- | | | | | | |
|----|------------|----|----------|----|------------|
| 1) | $y = -x^2$ | 2) | $y = -x$ | 3) | $y = -1/x$ |
|----|------------|----|----------|----|------------|

В таблице под каждой буквой укажите соответствующий номер.

11) В первом ряду кинозала 22 места, а в каждом следующем на 2 больше, чем в предыдущем. Сколько мест в двенадцатом ряду?

12) Найдите значение выражения $(xy + y^2)/4x \cdot 2x/(x+y)$ при $x = -7,8$, $y = -4,8$

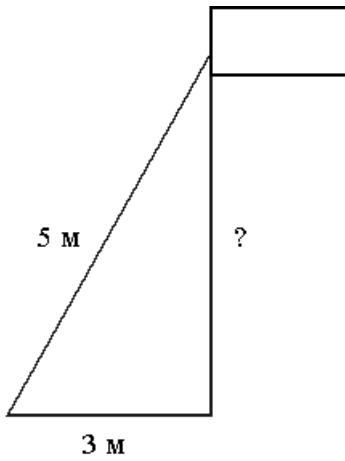
13) В фирме «Эх, прокачу!» стоимость поездки на такси (в рублях) длительностью более 5 минут рассчитывается по формуле $C = 150 + 11(t - 5)$, где t — длительность поездки (в минутах).

Пользуясь этой формулой, рассчитайте стоимость 10-минутной поездки. Ответ дайте в рублях.

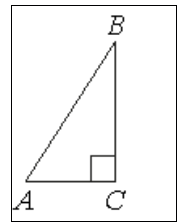
14) Решите систему уравнений : $\begin{cases} 3x - y = -1 \\ -x + 2y = 7 \end{cases}$

$$\begin{cases} 3x - y = -1 \\ -x + 2y = 7 \end{cases}$$

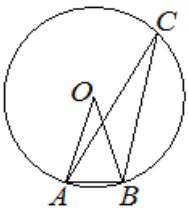
15) Флагшток удерживается в вертикальном положении при помощи троса. Расстояние от основания флагштока до места крепления троса на земле равно 3 м. Длина троса равна 5 м. Найдите расстояние от земли до точки крепления троса. Ответ дайте в метрах.



16) В треугольнике ABC угол C равен 90° , $BC=8$, $AB=10$. Найдите $\cos B$.



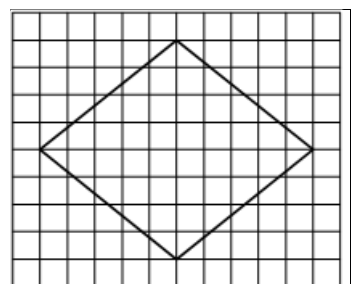
17) Треугольник ABC вписан в окружность с центром в точке O. Точки O и C лежат в одной полуплоскости относительно прямой AB. Найдите угол ACB, если угол AOB равен 27° . Ответ дайте в градусах.



18) Основания трапеции равны 3 и 5, а высота равна 9. Найдите площадь этой трапеции.



19) На клетчатой бумаге с размером клетки 1×1 изображён ромб. Найдите площадь этого ромба.



20) Какое из следующих утверждений верно?

- 1) В параллелограмме есть два равных угла.
- 2) Каждая из биссектрис равнобедренного треугольника является его медианой.
- 3) Площадь прямоугольного треугольника равна произведению длин его катетов.

В ответ запишите номер выбранного утверждения.

Вторая часть

21) Решите уравнение $(x+3)^4 + 2(x+3)^2 - 8 = 0$.

22) Два автомобиля одновременно отправляются в 980-километровый пробег. Первый едет со скоростью на 28 км/ч большей, чем второй, и прибывает к финишу на 4 ч раньше второго. Найдите скорость первого автомобиля.

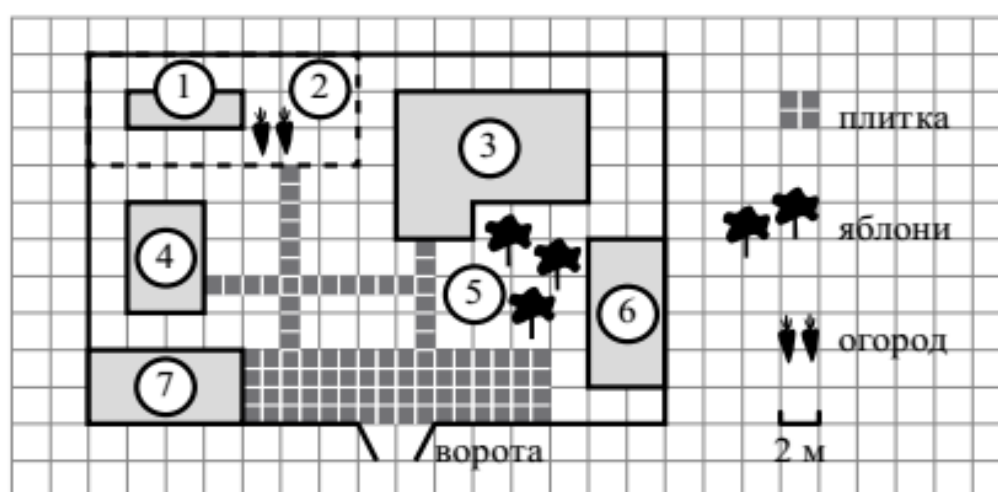
24) Отрезки АВ и DC лежат на параллельных прямых, а отрезки АС и ВD пересекаются в точке М. Найдите МС, если АВ=14, DC=42, АС=52.

25) В треугольнике АВС с тупым углом ВАС проведены высоты ВВ1 и СС1. Докажите, что треугольники АВ1С1 и АВС подобны.

Часть 1

Ответами к заданиям 1–20 являются число или последовательность цифр, которые следует записать в БЛАНК ОТВЕТОВ № 1 справа от номера соответствующего задания, начиная с первой клеточки. Если ответом является последовательность цифр, то запишите её без пробелов, запятых и других дополнительных символов. Каждый символ пишете в отдельной клеточке в соответствии с приведёнными в бланке образцами.

Прочитайте внимательно текст и выполните задания 1–5.



На плане изображено домохозяйство по адресу: с. Авдеево, 3-й Поперечный пер., д. 13 (сторона каждой клетки на плане равна 2 м). Участок имеет прямоугольную форму. Выезд и въезд осуществляются через единственные ворота.

При входе на участок справа от ворот находится баня, а слева — гараж, отмеченный на плане цифрой 7. Площадь, занятая гаражом, равна 32 кв. м.

Жилой дом находится в глубине территории. Помимо гаража, жилого дома и бани, на участке имеется сарай (подсобное помещение), расположенный рядом с гаражом, и теплица, построенная на территории огорода (огород отмечен цифрой 2). Перед жилым домом имеются яблоневые посадки.

Все дорожки внутри участка имеют ширину 1 м и вымощены тротуарной плиткой размером 1 м × 1 м. Между баней и гаражом имеется площадка площадью 64 кв. м, вымощенная такой же плиткой.

К домохозяйству подведено электричество. Имеется магистральное газоснабжение.

- 1 Для объектов, указанных в таблице, определите, какими цифрами они обозначены на плане. Заполните таблицу, в бланк ответов перенесите последовательность четырёх цифр.

Объекты	жилой дом	сарай	баня	теплица
Цифры				

- 2 Тротуарная плитка продаётся в упаковках по 4 штуки. Сколько упаковок плитки понадобилось, чтобы выложить все дорожки и площадку перед гаражом?

Ответ: _____.

- 3 Найдите площадь, которую занимает жилой дом. Ответ дайте в квадратных метрах.

Ответ: _____.

- 4 Найдите расстояние от жилого дома до гаража (расстояние между двумя ближайшими точками по прямой) в метрах.

Ответ: _____.

- 5 Хозяин участка планирует устроить в жилом доме зимнее отопление. Он рассматривает два варианта: электрическое или газовое отопление. Цены на оборудование и стоимость его установки, данные о расходе газа, электроэнергии и их стоимости даны в таблице.

	Нагреватель (котел)	Прочее оборудование и монтаж	Сред. расход газа / сред. потребл. мощность	Стоимость газа / электро-энергии
Газовое отопление	24 тыс. руб.	18 280 руб.	1,2 куб. м/ч	5,6 руб./куб. м
Электр. отопление	20 тыс. руб.	15 000 руб.	5,6 кВт	3,8 руб./ (кВт · ч)

Обдумав оба варианта, хозяин решил установить газовое оборудование. Через сколько часов непрерывной работы отопления экономия от использования газа вместо электричества компенсирует разность в стоимости установки газового и электрического отопления?

Ответ: _____.

- 6 Найдите значение выражения $\frac{1}{4} + 0,07$.

Ответ: _____.

- 7 На координатной прямой отмечена точка A .

Известно, что она соответствует одному из четырёх указанных ниже чисел. Какому из чисел соответствует точка A ?

- 1) $\frac{181}{16}$ 2) $\sqrt{37}$ 3) 0,6 4) 4

Ответ:

- 8 Найдите значение выражения $\sqrt{45} \cdot \sqrt{605}$.

Ответ: _____.

- 9) Решите уравнение $x^2 + x - 12 = 0$.
Если уравнение имеет более одного корня, в ответ запишите больший из корней.

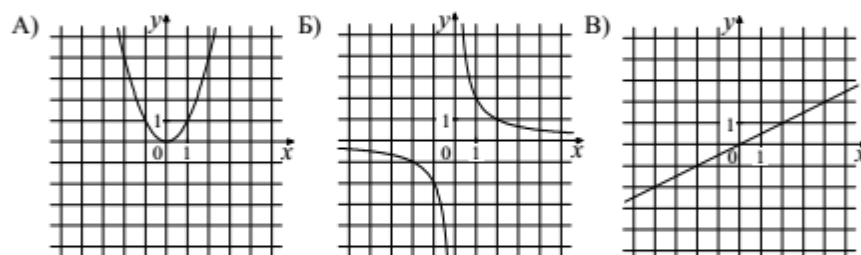
Ответ: _____.

- 10) На тарелке лежат пирожки, одинаковые на вид: 4 с мясом, 8 с капустой и 3 с яблоками. Петя наугад выбирает один пирожок. Найдите вероятность того, что пирожок окажется с яблоками.

Ответ: _____.

- 11) Установите соответствие между графиками функций и формулами, которые их задают.

ГРАФИКИ



ФОРМУЛЫ

- 1) $y = x^2$ 2) $y = \frac{x}{2}$ 3) $y = \frac{2}{x}$

В таблице под каждой буквой укажите соответствующий номер.

Ответ:

А	Б	В

- 12) В последовательности чисел первое число равно 6, а каждое следующее больше предыдущего на 4. Найдите пятнадцатое число.

Ответ: _____.

13 Найдите значение выражения $9b + \frac{5a - 9b^2}{b}$ при $a = 9$, $b = 36$.



Ответ: _____.

14 Чтобы перевести значение температуры по шкале Цельсия в шкалу Фаренгейта, пользуются формулой $t_F = 1,8t_C + 32$, где t_C — температура в градусах Цельсия, t_F — температура в градусах Фаренгейта. Скольким градусам по шкале Фаренгейта соответствует -25 градусов по шкале Цельсия?

Ответ: _____.

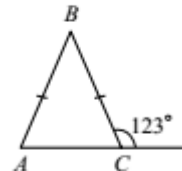
15 Укажите решение системы неравенств

$$\begin{cases} x + 2,6 \leq 0, \\ x + 5 \geq 1. \end{cases}$$



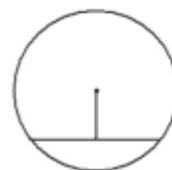
Ответ:

16 В равнобедренном треугольнике ABC с основанием AC внешний угол при вершине C равен 123° . Найдите величину угла BAC . Ответ дайте в градусах.



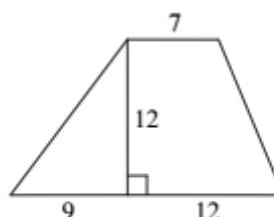
Ответ: _____.

17 Найдите длину хорды окружности радиусом 13, если расстояние от центра окружности до хорды равно 5.



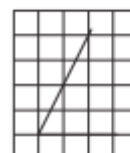
Ответ: _____.

- 18** Найдите площадь трапеции, изображённой на рисунке.



Ответ: _____.

- 19** Найдите тангенс острого угла, изображённого на рисунке.



Ответ: _____.

- 20** Какие из следующих утверждений верны?

- 1) Через точку, не лежащую на данной прямой, можно провести прямую, параллельную этой прямой.
- 2) Треугольник со сторонами 1, 2, 4 существует.
- 3) В любом параллелограмме есть два равных угла.

В ответе запишите номера выбранных утверждений без пробелов, запятых и других дополнительных символов.

Ответ: _____.



*Не забудьте перенести все ответы в бланк ответов № 1 в соответствии с инструкцией по выполнению работы.
Проверьте, чтобы каждый ответ был записан в строке с номером соответствующего задания.*

Часть 2

При выполнении заданий 21–26 используйте БЛАНК ОТВЕТОВ № 2. Сначала укажите номер задания, а затем запишите его решение и ответ. Пишите чётко и разборчиво.

21 Решите уравнение $x^4 = (4x - 5)^2$.

22 Рыболов в 5 часов утра на моторной лодке отправился от пристани против течения реки, через некоторое время бросил якорь, 2 часа ловил рыбу и вернулся обратно в 10 часов утра того же дня. На какое расстояние от пристани он отплыл, если скорость течения реки равна 2 км/ч, а собственная скорость лодки равна 6 км/ч?

23 Постройте график функции $y = \frac{x^4 - 13x^2 + 36}{(x-3)(x+2)}$ и определите, при каких значениях c прямая $y = c$ имеет с графиком ровно одну общую точку.

24 В прямоугольном треугольнике ABC с прямым углом C известны катеты: $AC = 6$, $BC = 8$. Найдите медиану CK этого треугольника.

25 В параллелограмме $ABCD$ точка E — середина стороны AB . Известно, что $EC = ED$. Докажите, что данный параллелограмм — прямоугольник.

26 Основание AC равнобедренного треугольника ABC равно 12. Окружность радиусом 8 с центром вне этого треугольника касается продолжений боковых сторон треугольника и касается основания AC . Найдите радиус окружности, вписанной в треугольник ABC .



Проверьте, чтобы каждый ответ был записан рядом с номером соответствующего задания.